

1 昨年^①は特に「節電」が多く呼びかけられた1年でした。計画停電が実施されるなど、みなさんの家庭でも家族ぐるみで「節電」に取り組んだことでしょう。電力を節約することは、環境や家計の面から見てもいいことが多くあります。次の表は経済産業省の資源エネルギー庁による『家庭の省エネ大辞典』に掲載されている、省エネに取り組んだことにより節約できる金額についてまとめたものの一部です。これを見て、あとの問いに答えなさい。

家電など	方法	1台の年間の節約金額
冷暖房	暖房時 ①石油ファンヒーター：1日1時間運転を短縮	1300円
	②電気カーペット：温度を下げる（強→中）	4090円
電球	白熱球（54W）を省エネ型の電球型蛍光灯（12W）に替える	1850円
	蛍光灯（12W）：1灯あたり1日1時間短縮	100円
	白熱球（54W）：1灯あたり1日1時間短縮	430円
冷蔵庫	冷蔵庫に物をつめこみすぎないようにする	960円
	冷蔵強度を適切にする（強→中）	1360円
	壁から適切な間隔をあけて設置する	990円
風呂 トイレ	風呂は間隔をあけずに入る	6490円
	シャワーを流しっぱなしにしない	3170円
	便座の設定温度を1段階下げる	580円
	洗浄水の設定温度を1段階下げる	300円
③車	加減速の少ない運転をする	3900円
	アイドリングストップ	2300円
その他	④電化製品は主電源を切り、プラグを抜く	2490円

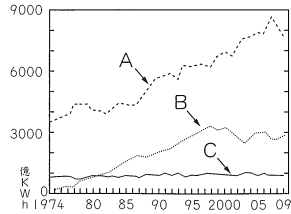
(1) 下線部①について、次の問いに答えなさい。

- ① 石油を運ぶ専用の船を何というか、カタカナで答えなさい。
- ② 現在、日本が石油を主に輸入している相手国の上位3カ国として正しいものを次のア～エから1つ選び、記号で答えなさい。
ア オーストラリア・ブラジル・南アフリカ共和国
イ サウジアラビア・アラブ首長国連邦・カタール
ウ マレーシア・オーストラリア・インドネシア
エ オーストラリア・インドネシア・カナダ

③ 石油化学工場に見られる、工場同士がパイプなどでつながれた工場群のことを何というか、カタカナで答えなさい。

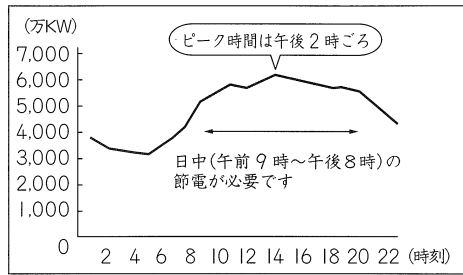
(2) 下線部②について、次の問いに答えなさい。

① 右のグラフは日本の総発電量の推移をあらわしたものです。A～Cにあてはまる発電方法をそれぞれ答えなさい。



(「日本国勢図会 2011/12」)

② 次のグラフは資源エネルギー庁による、ある夏の1日の使用電力の移り変わりを示しています。午後2時ごろに電気使用量がピークとなる理由を考えて書きなさい。



(3) 下線部③について、次の問いに答えなさい。

① 自動車の組み立て工場ではおよそ2～3万個の部品を使って自動車を完成させています。その部品の多くを作る中小工場のことを何というか、答えなさい。

② 日本で有数の自動車生産台数をほこる愛知県豊田市は組み立て工場の周りに多くの中小工場が配置され、豊田市の自動車企業が都市の経済活動の中心となっています。そのような状態を何というか、漢字5字で答えなさい。

③ 近年ではクリーンエネルギー車が続々と開発されています。水素と酸素から電気を作って走り、水しか排出しない車を何というか、答えなさい。

(4) 下線部④について、現在家電リサイクル法によって指定された電化製品はリサイクルをすることが義務付けられています。この法律で指定された電化

製品としてあてはまらないものを次のア～エから1つ選び、記号で答えなさい。

ア 冷蔵庫 イ テレビ ウ パソコン エ エアコン

(5) 表に書いてある節電方法以外で、あなたができる節電方法を1つ、考えて書きなさい。

2 東北地方の各県についてまとめた次の表を見て、あとの問いに答えなさい。

	県のマーク	県の木	県の花	県の鳥
A		ヒバ	りんごの花	ハクチョウ
B		ナンブアカマツ	キリ	キジ
C		ケヤキ	ミヤギノハギ	ガン
D		スギ	フキのとう	やまどり
E		さくらんぼ	べにばな(紅花)	オシドリ
F		ケヤキ	ネモトジャクナゲ	キビタキ

(1) Aの県について、この県のマークは県の形から作られています。★の半島名を次のア～エから1つ選び、記号で答えなさい。

ア 牡鹿半島 イ 下北半島 ウ 能登半島 エ 三浦半島

(2) Bの県の県庁所在地名を漢字で答えなさい。

(3) Cの県について、次の問いに答えなさい。

① この県は県庁所在地が政令指定都市となっています。次のページの表は県庁所在地が政令指定都市になっているCの県、静岡県、愛知県、新潟県

のさまざまなデータを表にしたものです。Cの県にあてはまるものを表1の①～④の中から1つ、表2の⑤～⑧の中から1つ選び、その組み合わせとして正しいものをあとのア～クから1つ選び、記号で答えなさい。

表1	人口 (千人)	面積 (km ²)	農業産出額 (億円)	製造品出荷額 (億円)
①	7418	5165	3210	466186
②	2336	7286	1875	35596
③	3792	7780	2281	193023
④	2378	12584	2777	52442

表2	米 (単位 t)	キャベツ (単位 t)	みかん (単位 t)	かき類 (単位 t)
⑤	89000	16700	122100	472
⑥	626900	15200	5	1368
⑦	155200	235500	31900	—
⑧	387800	9330	—	45041

(「日本国勢図会 2011/12」)

ア ①・⑤ イ ①・⑥ ウ ②・⑦ エ ②・⑧
オ ③・⑤ カ ③・⑥ キ ④・⑦ ク ④・⑧

- ② この県には、「県の鳥」が飛来する地として登録された場所があります。水鳥の飛来地を守るという国際条約を何というか、答えなさい。
- (4) Dの県について、次の問いに答えなさい。

① 県の木のスギを使って作られる、この県の伝統的工芸品を次のア～エから1つ選び、記号で答えなさい。

ア こけし イ 会津塗 ウ 曲げわっぱ エ 将棋のこま

② 県の鳥のやまどり、山に多く生息することからその名がつけられました。次のア～エの山地・山脈からこの県にあるものを1つ選び、記号で答えなさい。

ア 紀伊山地 イ 赤石山脈 ウ 越後山脈 エ 出羽山地

③ この県で8月の初旬に行われる祭りは何ですか、次のア～エから1つ選び、記号で答えなさい。

ア 竿灯祭り イ ねぶた祭り ウ 七夕祭り エ 花笠祭り

(5) Eの県について、この県にある盆地として正しいものを次のア～エから1つ選び、記号で答えなさい。

ア 甲府盆地 イ 北上盆地 ウ 郡山盆地 エ 新庄盆地

(6) Fの県について、この県の中央部には1C工場が立地しています。その理由を書きなさい。

(7) A～Fの県について東北新幹線で東京から終点まで行った時に通る県を4つ選び、通る順に並べて「A→B→C→D」のように答えなさい。

3 次の文を読み、あとの問いに答えなさい。

昨年(しんねん)は①法然上人(しやうにん)の800回忌(き)、親鸞聖人(せいじん)の750回忌にあたる年でした。ゆかりの寺院では盛大な法要(ほうよう)が行われました。日本の仏教の歴史は②538年、朝鮮半島の百濟(はくせい)から渡来(わうらい)人により伝えられたときから始まります。伝来した当初(しうじう)は、崇仏派(すうぶつは)の豪族蘇我氏(そが)と排仏派(はいぶつは)の豪族物部氏(ものべ)が対立しましたが、蘇我氏の勝利により日本に仏教が取り入れられることとなりました。聖徳太子は③「仏教をあつく信仰(しんこう)しなさい。」という内容をふくむ役人の心がまえを出したり、世界最古の木造建築である法隆寺を建てたりするなど仏教をさかんにしようとしました。聖武天皇は、741年にばく大な費用をかけ国ごとに国分寺を建てることを命じ、743年には④大仏造立(みことのり)の詔(みことり)を出しました。平安時代になると、平安仏教といわれる日本ではじめての本格的な宗派が生まれました。これらの仏教は国家の思惑(おもわく)から離れ、山中に寺院がつくられたため山岳(がく)仏教ともよばれます。平安時代の中ごろには世の中に対する不安から仏教が説く極楽浄土(ごくらくじょうど)へのあこがれが強まる中で、京都の宇治に⑤平等院鳳凰堂(びやうおうだう)が建てられました。⑥室町時代には、鎌倉時代に生まれた新しい宗派を中心に⑦加賀の一向一揆(いっけい)がおこりました。⑧織田信長(おだののぶなが)は、当時強い力を持っていた仏教勢力をおさえ、キリスト教を保護してキリスト教の学校や教会堂を建てさせました。豊臣秀吉にも仏教勢力はおさえられました。江戸時代には、⑨キリスト教を禁止(しんじ)するため、すべての民衆(みんしゆう)が仏教徒となりいずれかの寺に所属することになったことで仏教は国教となりました。現在の日本にも日常生活のいたるところに仏教の影響(えいきやう)が強く残っています。

- (1) 下線部①について、次の問いに答えなさい。
- ① 法然と親鸞の開いた宗派の組み合わせとして正しいものを次のア～エから1つ選び、記号で答えなさい。
- ア 法然－浄土宗 親鸞－時宗 イ 法然－浄土宗 親鸞－浄土真宗
ウ 法然－浄土真宗 親鸞－浄土宗 エ 法然－時宗 親鸞－浄土真宗
- ② 法然と親鸞が活躍した時代には、民衆に仏教が広がっていききました。その理由を説明しなさい。
- (2) 下線部②よりも年代の古いできごととして正しくないものを次のア～エから1つ選び、記号で答えなさい。
- ア 大仙古墳がつくられる。 イ 女王卑弥呼のくになが栄える。
ウ 土器がはじめてつくられる。 エ 古事記がつくられる。
- (3) 下線部③を何というか、答えなさい。
- (4) 下線部④について、次の問いに答えなさい。
- ① 大仏をつくるのに協力した僧で、橋や道、池や水路などをつくりながら仏教を広め「菩薩」としたわれていたのはだれか、答えなさい。
- ② 聖武天皇が大仏を造立した寺の名前を答えなさい。
- (5) 下線部⑤を建てたのはだれか、答えなさい。
- (6) 下線部⑥について、次の問いに答えなさい。
- ① 室町時代の歴代将軍について述べた文として正しくないものを次のア～エから1つ選び、記号で答えなさい。
- ア 3代将軍足利義満は京都の室町に花の御所をつくった。
イ 3代将軍足利義満は中国の宋と勘合貿易を行った。
ウ 初代将軍足利尊氏は後醍醐天皇とは別の天皇をたて、征夷大將軍に任命された。
エ 8代将軍足利義政のときに銀閣がつくられた。
- ② 室町時代に生まれた文化が地方の都市へと広まっていった理由を、応仁の乱と関連させて説明しなさい。
- (7) 下線部⑦について、この時代には各地で一揆が発生しました。その理由を説明しなさい。

- (8) 下線部⑧について述べた次のア～エの文を年代の古い順に並べかえ、記号で答えなさい。
- ア 将軍の足利義昭を京都から追放して室町幕府をほろぼした。
イ 3000丁の鉄砲を使って、最強といわれていた武田の騎馬隊を破った。
ウ 京都の本能寺で家来の明智光秀におそわれた。
エ 駿河の今川義元を破った。
- (9) 下線部⑨について、江戸幕府がキリスト教を禁止した理由を簡単に説明しなさい。

- 4 近年、スマートフォンの普及やテレビの地上デジタル放送への完全移行など情報通信機器の発達が目立っています。そこで、しんやくんは歴史上のおもなできごとと日本における情報通信をつかさどるメディアに関するできごとについて年表にまとめました。これを見て、あとの問いに答えなさい。

年代	おもなできごと	メディアに関するできごと
1868 A	①明治維新	郵便制度の開始
1890 B	第1回帝国議会が開催される	東京～(②) 間で電話交換業務が始まる
1925 C	③普通選挙法が制定される	ラジオ放送が始まる
1945 D	広島・長崎に原爆が投下される	④天皇が玉音放送にて終戦を伝える
1953 E	朝鮮戦争の休戦協定が結ばれる	テレビ放送が始まる
1960 F	日米安全保障条約が改定される	⑤カラーテレビ放送が始まる
2001	アメリカ同時多発テロが発生する	カメラ機能付き携帯電話が発売される

(1) 下線部①について、次の資料は五箇条の御誓文をあらわしています。

(あ)・(い)にあてはまる語句を答えなさい。

- 一、政治は、(あ)を開いてみんなの意見を聞いて決めよう。
- 一、国民が心を合わせて、国の勢いをさかんにしよう。
- 一、国民一人一人の意見がかなう世の中にしよう。
- 一、これまでのよくないしきたりを改めよう。
- 一、知識を世界から学んで、(い)中心の国家をさかんにしよう。

(2) (②)について、(②)には1872年に新橋からつながる鉄道も開通しています。(②)にあてはまる都市名を答えなさい。


(3) 下線部③について、このころ平等な社会を目指してさまざまな社会運動が行われました。1922年に部落差別からの解放を目指して創立された組織の名前を答えなさい。

(4) 下線部④について、次の問いに答えなさい。

① 下線部④で終結した戦争中の次のア～エのできごとを年代の古い順に並べかえ、記号で答えなさい。

- ア 第二次世界大戦が始まる イ 日中戦争が始まる
- ウ アメリカ軍が沖縄に上陸する エ 太平洋戦争が始まる

② 戦後すぐの日本では、右の写真のように一部に墨が塗られた教科書が使われました。その理由を簡単に説明しなさい。



(5) 下線部⑤について、以下はある電機メーカーの1964年のカラーテレビの新聞広告のキャッチフレーズです。()にあてはまる語句を考えて書きなさい。

「()をカラーで見たいカラーで見せたい」

(6) 次の①・②のできごとはA～Fのどの時期にあてはまるか、1つずつ選び、記号で答えなさい。

- ① 日英同盟の締結 ② 沖縄返還

5 次の文を読み、あとの問いに答えなさい。

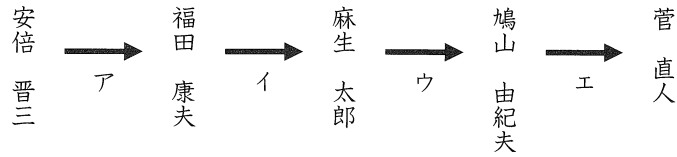
2011年8月末、菅直人首相が退陣しました。①2007年以後の5年間で5人目の内閣総理大臣だった彼の1年3か月の政治をふり返ってみましょう。

2010年6月に第94代内閣総理大臣に就任後、7月の②参議院議員選挙に臨んだ首相でしたが、消費税の増税に触れたことから内閣支持率は急落し、選挙結果も民主党の大敗に終わりました。この選挙から「ねじれ国会」が生じ、政権の運営が困難になりました。さらに9月には、沖縄県の(③)付近で中国の漁船が海上保安庁の巡視船と衝突する事件が起こり、中国との外交問題に発展しました。

2011年3月、東日本大震災が起こると、④震災や原発事故への対応、復興や今後のエネルギー政策のあり方などが問われました。首相は「緊急災害対策本部」や「原子力災害統合対策本部」などの組織を立ち上げ、震災翌日には首相自ら福島第1原子力発電所を視察しました。また、国外へ向けてもさまざまな意見を発信し、5月末にフランスのドーヴィルで行われた⑤サミットでは、自然エネルギーへの転換を主張しました。しかし、これらの対応について、野党ばかりか民主党内でも首相への批判の声が相次ぎ、6月には⑥内閣不信任案が提出されました。不信任案は、採決直前に首相が「一定のめどがついた段階」での辞任について発言したため、民主党内の批判をおさえ、否決することができました。辞任直前の8月には、⑦国際連合の潘基文事務総長とも会談し、復興への予算にも道筋をつけました。

菅首相の退陣後、民主党では総裁選挙が行われ、選挙の結果を受け、新たに(⑧)首相が誕生しました。

(1) 下線部①について、次のページの図は2007年以後の内閣総理大臣の移り変わりを示したものです。自民党中心の政権から民主党中心の政権へと変わった「政権交代」が起こった時期として正しいものを、ア～エから1つ選び、記号で答えなさい。



- (2) 下線部②について、参議院議員選挙について述べた次の文の (A)・(B) にあてはまる語句の組み合わせとして正しいものを次のア～エから1つ選び、記号で答えなさい。

参議院議員の被選挙権は (A) 以上であり、このときの選挙では (B) の議員が選ばれた。

ア A : 25 歳 B : 242 人 イ A : 30 歳 B : 242 人
ウ A : 25 歳 B : 121 人 エ A : 30 歳 B : 121 人

- (3) (③) にあてはまる語句として正しいものを次のア～エから1つ選び、記号で答えなさい。

ア 竹島 イ 尖閣諸島 ウ 沖ノ鳥島 エ 択捉島

- (4) 下線部④について、次の問いに答えなさい。

① 震災や原発事故への対応に際して自衛隊が大きな力を発揮しました。自衛隊の前身となる警察予備隊が組織されるきっかけとなった戦争として正しいものを次のア～エから1つ選び、記号で答えなさい。

ア 日中戦争 イ 太平洋戦争 ウ 朝鮮戦争 エ 湾岸戦争

② 震災で被災した方々の生存権を保障するため、各地に仮設住宅が建てられました。生存権が明記された憲法第 25 条の条文の (A) ～ (C) にあてはまる語句を漢字で答えなさい。

すべて国民は、(A) で (B) な (C) の生活を営む権利を有する。

- (5) 下線部⑤について、次の表はサミット参加国の面積、人口、首都の位置、日本への主な輸出品をまとめたものです。この表のア～キから下の A・B の文にあてはまる国を1つずつ選び、記号で答えなさい。

	面積 (千 km ²)	人口 (千人)	首都の位置	日本への主な輸出品
ア	9985	33890	北緯 45 度, 西経 75 度	石炭, 肉類, 木材
イ	357	82057	北緯 52 度, 東経 13 度	機械類, 自動車, 医薬品
ウ	301	60098	北緯 41 度, 東経 12 度	医薬品, 機械類, バッグ類
エ	243	61899	北緯 51 度, 西経 0 度	機械類, 医薬品, 有機化合物
オ	9629	317641	北緯 38 度, 西経 77 度	機械類, どうもろこし, 航空機類
カ	552	62637	北緯 48 度, 東経 2 度	機械類, 医薬品, ぶどう酒
キ	17098	140367	北緯 55 度, 東経 37 度	原油, 液化天然ガス, 石炭
日本	378	128056	北緯 35 度, 東経 139 度	

A この国では今年の 7 月にオリンピックが開かれる。2011 年には経済の悪化から国内の各地で若者を中心とした暴動が起り、大きな問題となった。

B この国では今年の 11 月に国のリーダーを決める選挙が行われる。2011 年には、長年の財政赤字から国の借金の返済が不安視される問題が発生した。

- (6) 下線部⑥について、内閣不信任案は衆議院でのみ決議されます。このように衆議院に参議院よりも大きな力が与えられている理由を簡単に説明しなさい。

(7) 下線部⑦について、2011 年には新たに国内に 2 つの世界遺産が誕生しました。これについて、世界遺産の登録を決定している国際連合の機関として正しいものを次のア～エから1つ選び、記号で答えなさい。

ア UNESCO イ WHO ウ IAEA エ UNHCR

- (8) (⑧) にあてはまる人物の姓名を漢字で答えなさい。