

社 会

- 注意 1. 問題は **1** から **6** まであり、7ページまで印刷してあります。
 2. 答えは、すべて別紙の解答用紙に書きなさい。
 3. 問いのうち「…選びなさい」と示されているものについては、ア、イ、ウ、…、の記号で答えなさい。

1 次のA～Fの文を読んで、あとの問いに答えなさい。

A

7世紀の中ごろ、中大兄皇子は、中臣鎌足とともに (a) を倒し、**中国**のしくみを取り入れて、天皇中心の国づくりをすすめるなどの b 政治の改革を行いました。

B

X世紀の中ごろ、聖武天皇は、さまざまな社会の不安を仏教の力によってしずめようと考え、c 全国に国分寺と国分尼寺を建立することを命じました。また、開墾した土地の永久使用を認める墾田永年私財法を定めました。

C

11世紀の初めごろ、(d) は、摂政という役職につき、政治の実権をにぎりました。(d) は、このころの政治のようすを「この世をば わが世とぞ思ふ もち月の かけたることも なしと思へば」という歌にあらわしました。

D

13世紀の終わりごろ、北条時宗が執権として、(e) 幕府の中心となって政治を行っているとき、**中国**が日本を二度にわたって襲ってきました。この戦いでは、「御恩と奉公」の関係によって結ばれている御家人とよばれる武士が活躍しました。

E

Y世紀の中ごろ、徳川家光は、参勤交代の制度を (f) に加えました。また、家光は、ポルトガル船の来航を禁止し、**中国**とオランダにかぎって貿易を行いました。

F

Z世紀の中ごろ、大老という役職についた井伊直弼は、日米 (g) 条約を結びました。この条約は、日本がアメリカに治外法権を認めることと、日本には関税自主権がないという h 不平等な条約でした。

- (1) A文中の (a) にあてはまる豪族を、次のア～エから選びなさい。
 ア 物部氏 イ 蘇我氏 ウ 大伴氏 エ 藤原氏
- (2) A文中の下線部bについて、この改革のとき、日本で初めて年号が定められました。この年号としてあてはまるものを、次のア～エから選びなさい。
 ア 大化 イ 大宝 ウ 天平 エ 養老
- (3) B文中の下線部cについて、国分寺・国分尼寺の中心の寺として建てられた寺の名を、次のア～エから選びなさい。
 ア 法隆寺 イ 金剛峯寺 ウ 東大寺 エ 延暦寺
- (4) C文中の (d) に共通してあてはまる人物の名を漢字で答えなさい。
- (5) D文中の (e) にあてはまる幕府の名を答えなさい。
- (6) E文中の (f) にあてはまる法の名を答えなさい。
- (7) F文中の (g) にあてはまることばを答えなさい。

(8) F文中の下線部hについて、この不平等な条約が結ばれてから、条約の完全な改正が行われるまでの期間としてもっともあてはまるものを、次のア～エから選びなさい。

ア 約30年 イ 約50年 ウ 約70年 エ 約90年

(9) A文中の「中国」、D文中の「中国」にあてはまるものを、次のア～オからそれぞれ1つずつ選びなさい。

ア 隋 イ 唐 ウ 明 エ 清 オ 元

(10) B文中の「X」世紀、E文中の「Y」世紀、F文中の「Z」世紀にあてはまる数字を答えなさい。ただし、A～Fの文は時代の古い順にならんでいます。

2 次のI・IIの文を読んで、それぞれの問いに答えなさい。

I

日本で初めて選挙が行われたのは、今から100年以上も前のことです。その当時は、直接国税を15円以上納めた満25歳以上の男子のみに選挙権が与えられていました。その後、直接国税の金額は、徐々に引き下げられていきましたが、それでも限られた国民の一部しか選挙権を持つことができませんでした。このように納税額や身分などによって選挙権が決められる選挙制度を「選挙制度」といいます。

これに対して、国税などの「」のない普通選挙制度を求める声が高まり、1925年には、満25歳以上のすべての男子が投票権を持つ普通選挙制度が実施されました。女性の参政権は1945年10月に実施が決められ、1946年4月、戦後初めての選挙が実施されました。この選挙の結果、女性議員39人が誕生しました。

(1) Iの文中の「」に共通してあてはまる漢字2字を答えなさい。

(2) 次の表は、選挙制度の移り変わりを示したものです。これについて、①～③の問いに答えなさい。

公布年	内閣総理大臣	実施年	有権者の資格		有権者の全人口比
			直接国税	年齢制限・性別	
1889年	黒田清隆	1890年	15円以上	満25歳以上の男子	約(あ)%
1900年	山形有朋	1902年	10円以上	満25歳以上の男子	——
1919年	(X)	1920年	3円以上	満25歳以上の男子	——
1925年	(Y)	1928年	なし	満25歳以上の男子	——
1945年	幣原喜重郎	1946年	なし	(Z)	約50.4%

① 表中の(X)・(Y)にあてはまる人物の名を、次のア～カからそれぞれ1つずつ選びなさい。

ア 伊藤博文 イ 大隈重信 ウ 犬養毅 エ 原敬 オ 加藤高明 カ 吉田茂

② 表中の(Z)にあてはまることばを15字以内で答えなさい。

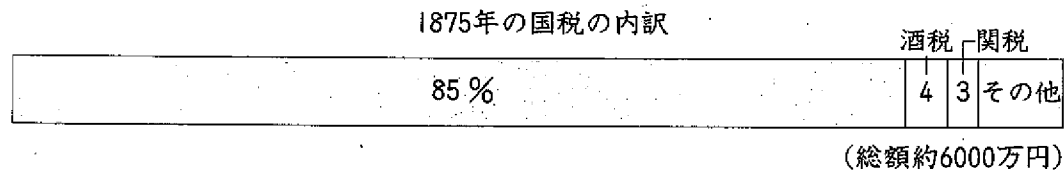
③ 表中の(あ)にあてはまる数字を、次のア～エから選びなさい。

ア 0.1 イ 1.1 ウ 2.1 エ 3.1

II

明治政府は、財政を安定させるために、a 1873年に新しい税のしくみを取り入れました。このしくみは、税として、土地の所有者が地価の3%を政府に現金で納めるというものでした。しかし、この税に反対する一揆が各地でおこり、b 1877年にはこの税の割合は2.5%に引き下げられました。

(3) IIの文中の~~~~部で示された税と次のグラフ中の□は、共通した税を示しています。この税の名を漢字2字で答えなさい。



(4) IIの文中の下線部a・bの年におこったできごととしてあてはまるものを、次のア～オからそれぞれ1つずつ選びなさい。

- ア 西南戦争がおこる
- イ 徴兵令が出される
- ウ 版籍奉還が行われる
- エ 大日本帝国憲法が出される
- オ 秩父事件がおこる

3 次のA～Fの6枚の地図は、北緯35度線上に位置する都道府県の形を示したものです。これについて、あとの問いに答えなさい。ただし、A～Eの地図の縮尺は、すべて等しく表してあります。

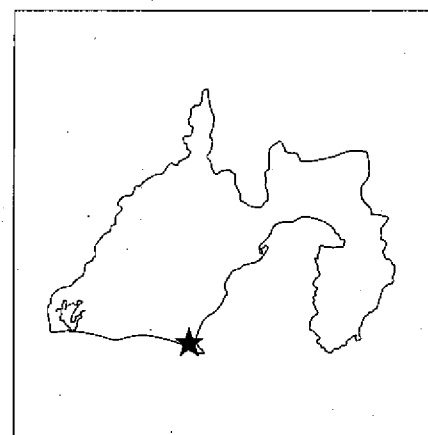
A 兵庫県



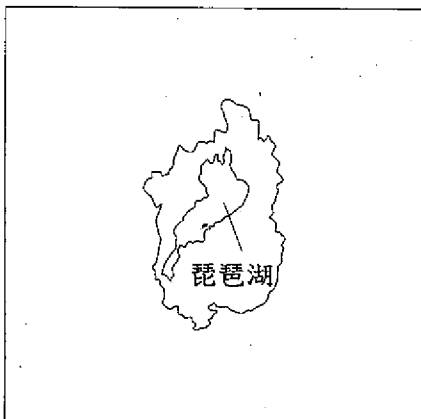
B 島根県



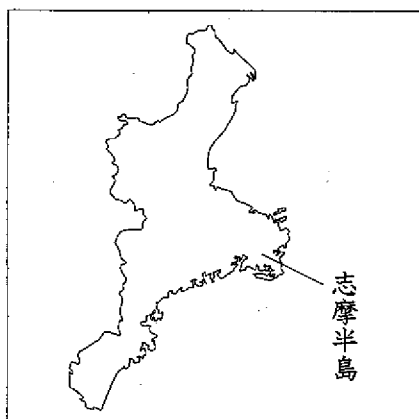
C 静岡県



D



E



F 京都府



(1) 右の表は、A～Fの都道府県の面積・人口を示したものです。これについて、①・②の問いに答えなさい。

記号	面積 km ²	人口 万人
A 兵庫県	8394	(I)
B 島根県	6707	(II)
C 静岡県	7780	379.5
D	4017	137.2
E	5777	186.4
F 京都府	4613	263.8

(「日本国勢図会」2005/06年版より作成)

① 表中のI・IIにあてはまる数字の組み合わせとして正しいものを、次のア～エから選びなさい。

ア I 74.9－II 1237.8 イ I 1237.8－II 558.7

ウ I 1237.8－II 74.9 エ I 558.7－II 74.9

② 表中のCの静岡県の人口密度としてあてはまるものを、次のア～エから選びなさい。

ア 72.0人/km² イ 487.8人/km² ウ 3614.5人/km² エ 5659.6人/km²

(2) Aの地図について、地図中の姫路城は世界遺産に登録されています。次のア～エのうち、世界遺産としてあてはまらないものを1つ選びなさい。

ア 白川郷 イ 原爆ドーム ウ 鹿苑寺金閣 エ 中尊寺金色堂

(3) Bの地図について、地図中の宍道湖は2005年にラムサール条約の登録地となりました。ラムサールとはどこの国の都市の名ですか。次のア～エから選びなさい。

ア ロシア連邦 イ イラン ウ サウジアラビア エ ドイツ

(4) Cの地図について、Cの地図中の★で示されたものの説明としてあてはまるものを選びなさい。

ア ★は黒部ダムです。

イ ★は中部国際空港です。

ウ ★は銚子港です。

エ ★は浜岡原子力発電所です。

(5) Dの地図について、Dの地図が示している都道府県の名を答えなさい。

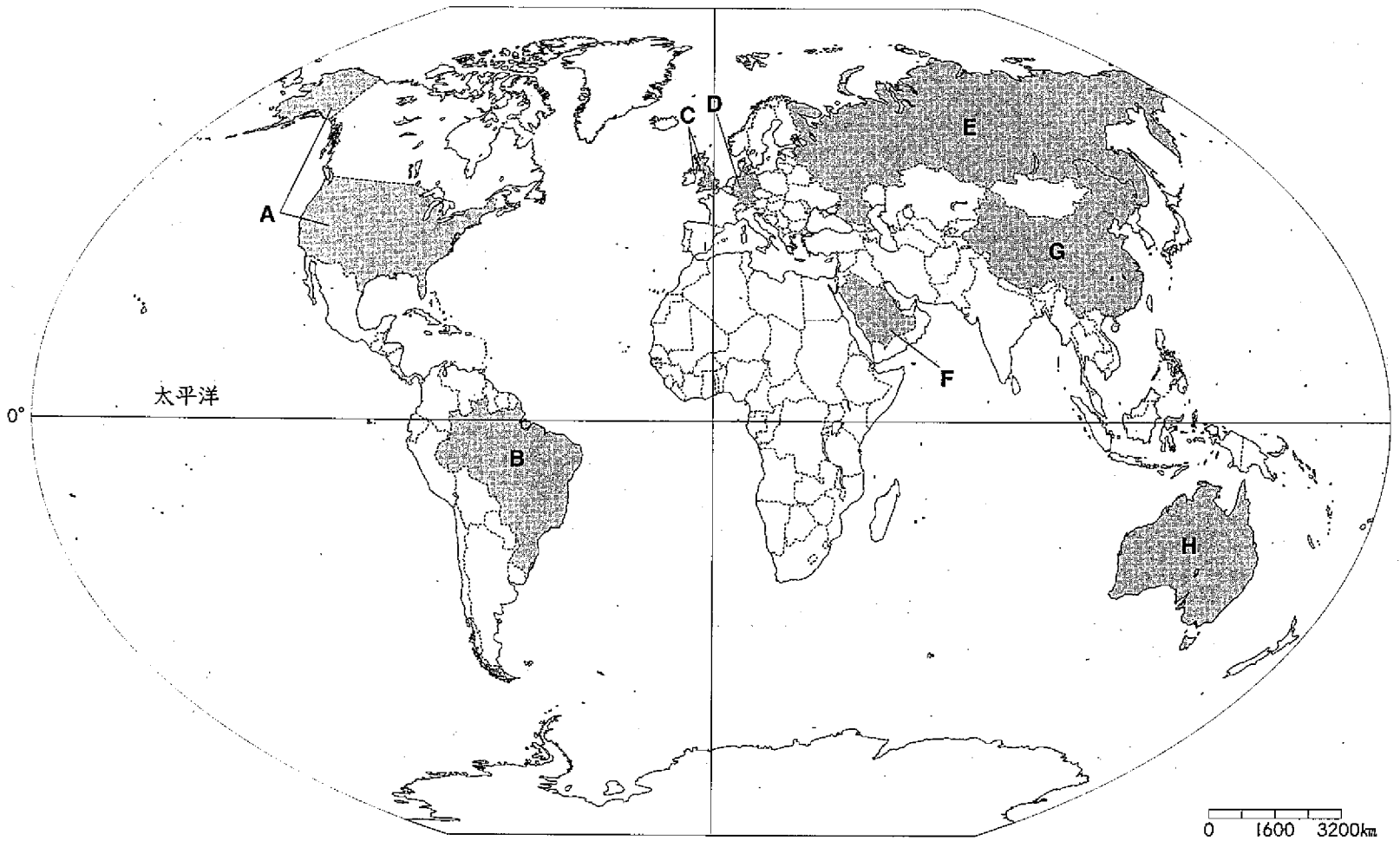
(6) Eの地図について、Eの地図が示している都道府県の名を答えなさい。

(7) Fの地図について、Fの地図中の丹後半島に位置する地域では、ある伝統的な工芸品の生産がさかんです。この伝統的な工芸品の種類としてあてはまるものを、次のア～エから選びなさい。

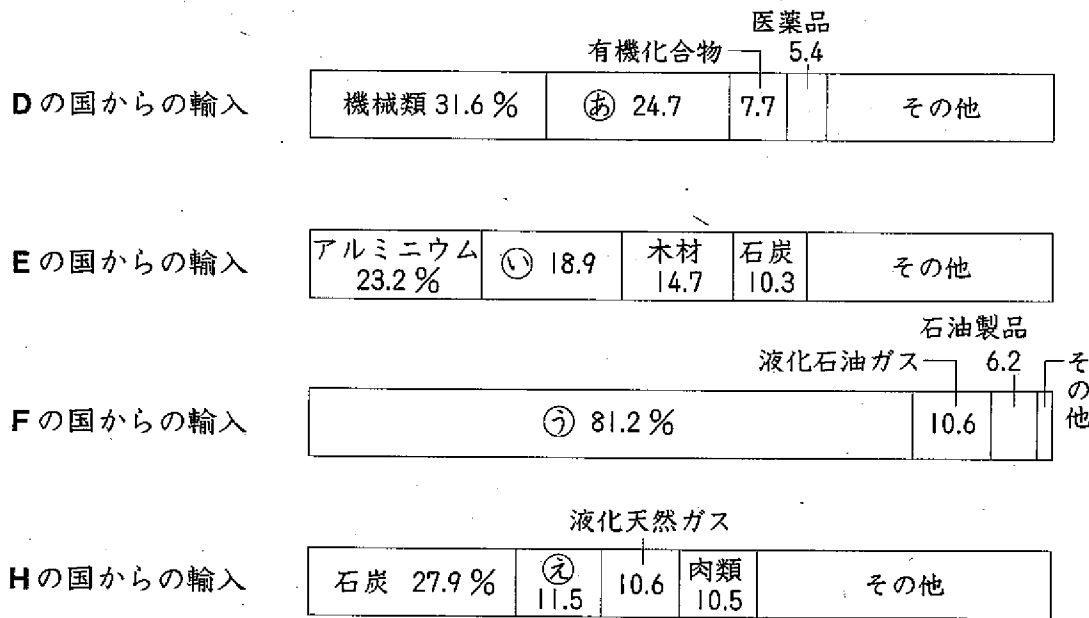
ア 漆器 イ 陶磁器 ウ 織物 エ 木工品

(8) A～Fの地図で示された都道府県のうち、もっとも西に位置する都道府県を、A～Fから選びなさい。

4 次の世界地図について、あとの問いに答えなさい。



- (1) 地図中のA～Hの国の中から、日本との貿易額（2004年）がもっとも多い国を1つ選び、記号で答えなさい。
 (2) 次の4つのグラフは、地図中のD・E・F・Hの4つの国からの日本への輸入品目割合（2004年）を示したものです。グラフ中の㊶～㊸にあてはまる輸入品目を、あとのア～キからそれぞれ選びなさい。



〔日本国勢図会〕2005/06年版より作成

ア 衣類 イ 魚介類 ウ 鉄鉱石 エ 果実 オ 原油 カ 航空機 キ 自動車

(3) 地図中のB・Cの国の名を答えなさい。

5 次の会話文は、おとうさんとあきらくんが、右の資料について話し合っているものです。これについて、あとの問いに答えなさい。

あきら 「おとうさん、1935年の図をみると、どうして、この表のことを人口 というのかよくわかるね。」

おとうさん 「ほんとうだね。 にそっくりに見えるね。こういう形の年齢別人口構成の国は、今でもアフリカやアジアの国の中にあるんだよ。こういう形になるには、国によっていろいろな要因があると思うけれど、日本の1935年の形はどういう理由でこうなっているのかわかるかな。考えてごらん。」

あきら 「うーん。戦争と何か関係あるのかなあ。あとでゆっくり考えてみて、お父さんに伝えるね。」

おとうさん 「図を見て、他に思ったことはあるかい？」

あきら 「1960年の図を見ると、10歳から15歳の人とびぬけて多いよ。」

おとうさん 「よく気がついたね。それは、 といって、a 戦争が終わって 平和な日本になったころ、特別に出生率が高くなったんだよ。その人たちが1960年代には10歳から15歳ぐらいになったから、こういう形になったんだ。その当時生まれた人たちは、今は50歳代になっているはずだよ。」

あきら 「あっ、それで2004年の図の50歳から60歳のところの人口が多いのかあ…。」

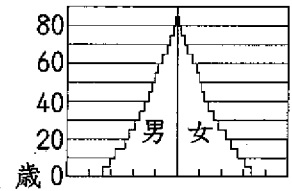
おとうさん 「b 高度経済成長のころだから、きっとおとうさんやおかあさんも夢がいっぱいあって子どもたちの幸せな将来を願っていたらうね。」

あきら 「今はどうして、c 子どもの数が少ないのかな？ これから50年後にはどんな人口 の形になっちゃうのかなあ…」

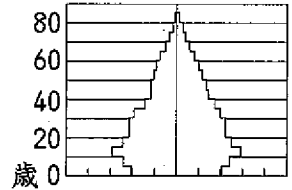
日本の年齢別人口構成

(人口)

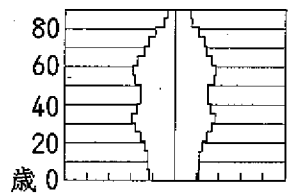
1935年



1960年



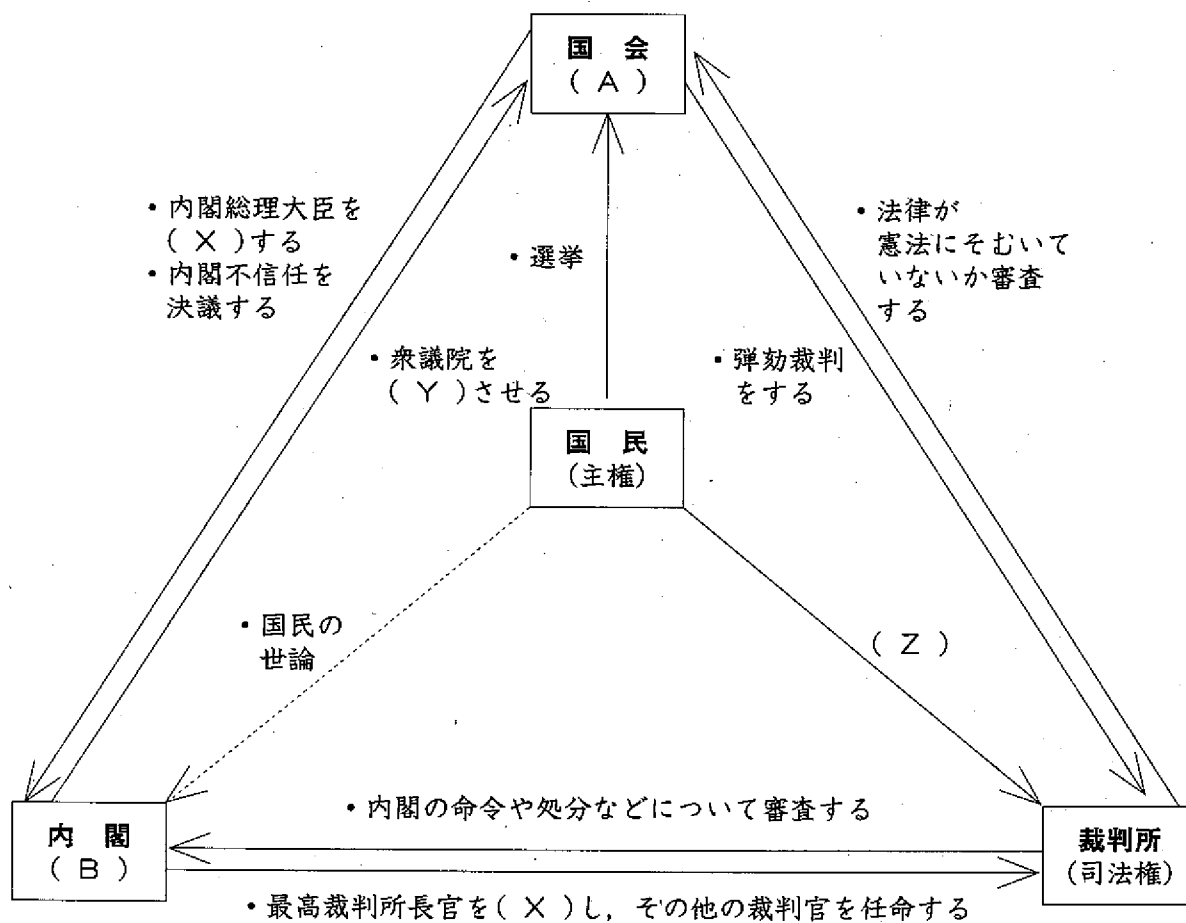
2004年



(「日本国勢図会」2005/06年版より作成)

- (1) 文中の に共通してあてはまることばをカタカナで答えなさい。
- (2) 文中の にあてはまることばをカタカナ6字で答えなさい。
- (3) 文中の下線部aについて、次のⅠ・Ⅱの戦争はどのようなできごとがきっかけとなっておこりましたか。あとのア～エからそれぞれ選びなさい。
 - Ⅰ 太平洋戦争 Ⅱ 満州事変
 - ア 日本が山東半島に軍を進めた。
 - イ 日本が奉天郊外で鉄道爆破事件をおこした。
 - ウ 日本が真珠湾を攻撃した。
 - エ 日本が甲午農民戦争を鎮圧した。
- (4) 文中の下線部bについて、次のア～エは高度経済成長の時期におこったできごとです。時代の古い順にならべかえなさい。
 - ア 大阪で万国博覧会が開催される。
 - イ 東京オリンピックが開催される。
 - ウ 札幌オリンピックが開催される。
 - エ 東海道新幹線が開業する。
- (5) 文中の下線部cについて、日本では現在少子化がすすんでいることが大きな社会問題となっています。少子化がすすむと、どのようなことが将来おこるとあなたは考えますか。30字以内であなたの考えを述べなさい。

6 次の三権分立のしくみを表した図について、あとの問いに答えなさい。



- (1) 表中の (A)・(B) にあてはまる権限をそれぞれ漢字 3 字で答えなさい。
- (2) 表中の (X)・(Y) にあてはまることばをそれぞれ漢字 2 字で答えなさい。
- (3) 表中の (Z) にあてはまることばを次のア～ウから選びなさい。
ア 国民投票 イ 国民審査 ウ 国民選挙
- (4) 表中の選挙について、2005年9月11日に衆議院の総選挙が行われました。これについて、①・②の問いに答えなさい。
 - ① 衆議院選挙は全国を300の小選挙区に分け、1選挙区につき1名を選ぶ制度と、全国を11のブロックに分け、得票によって各政党の議員数を配分する制度が組み合わさっています。このような制度を小選挙区〇〇代表並立制といいます。〇〇にあてはまる漢字 2 字を答えなさい。
 - ② 衆議院議員の議席数と任期をそれぞれ数字で答えなさい。
- (5) 表中の内閣について、①・②の問いに答えなさい。
 - ① 現在の、第89代内閣総理大臣の名を漢字で答えなさい。
 - ② 現在の内閣はある 2 つの政党が連立してできています。この 2 つの政党の名を次のア～オから選びなさい。
ア 民主党 イ 日本共産党 ウ 公明党 エ 自由民主党 オ 社会民主党
- (6) 日本の三権分立のしくみの中で、国会と内閣が連帯して責任を負うしくみを何制といいますか。漢字 4 字で答えなさい。