

平成18年度 札幌光星中学校入学試験問題 社会

注意事項

1. 試験時間は、45分間です。
2. 開始の合図により、始めてください。
3. 問題は、第1問から第6問まであり、解答用紙と合わせて4枚あります。
4. 答えは、すべて解答用紙に記入してください。
5. 印刷が不明な場合のほかは、問題についての質問は受けつけません。
6. 試験終了後は、解答用紙回収が終わるまで、席を立たず、静かにしててください。

第1問 次の文章を読んで、下線部①～⑥についての問いに答えなさい。

『世界がもし100人の村だったら』（マガジンハウス社）という本があります。
 この本と同じように、2005年のわが国の人口に統計比率をきちんと盛り込んで、
 日本全国を100人の村に縮小するとどうなるでしょう。

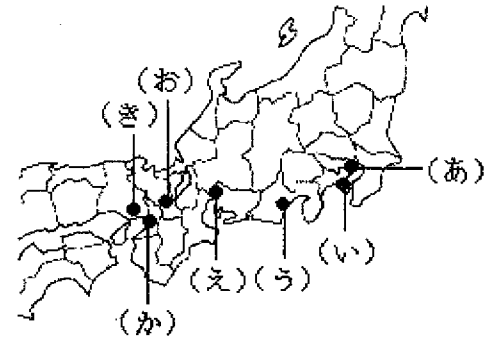
その村には…

- 14人の0～14歳の人
- 67人の15～64歳の人
- 19人の①65歳以上の人がいます
- 45人が②三大都市（東京・名古屋・大阪）の半径50キロ以内に住んでいます
 この地域の面積は日本全土の6%です
- 55人が③それ以外の地域に住んでいます
 この地域の面積は日本全土の94%です
- 2人が④第一次産業で働き
- 14人が⑤第二次産業で働き
- 34人が第三次産業で働いています
- 13人が昨年⑥海外旅行に行きました
- 61人がインターネットを利用しています

*統計比率の基礎となる資料・・・日本国勢図会2005/06

問1 下線部①について、高齢社会ではない国を、次のア～エから1つ選び、記号で答えなさい。
 ア. フランス イ. ブラジル ウ. ドイツ エ. イギリス

問2 下線部②について、次の(1)・(2)に答えなさい。
 (1) 右の地図を見て、三大都市の組み合わせを、次のア～エから1つ選び、記号で答えなさい。
 ア. (あ) (え) (か) イ. (い) (え) (お)
 ウ. (あ) (う) (き) エ. (い) (う) (お)



(2) 三大都市周辺の地域の説明として、まちがっているものを、次のア～エから1つ選び、記号で答えなさい。
 ア. この地域では、新鮮な野菜や花などを大消費地に出荷する近郊農業がおこなわれている。
 イ. この地域では、深刻な土地不足を解消するために、臨海部が埋め立てられている。
 ウ. この地域には、工業製品出荷額（2004年）で上位3つを占める工業地帯がある。
 エ. この地域には、大気汚染に配慮し、石油や石炭を使用しない原子力発電所が建てられている。

問3 下線部③について、農山村地域には人口の減少が問題となっているところが多い。このような問題を何というか答えなさい。

問4 下線部④について、わが国は食料自給率が低いとため、多くの食料を輸入にたよっています。これらの中で輸入額（2004年）がもっとも多いものを、次のア～エから1つ選び、記号で答えなさい。
 ア. 穀物 イ. 魚介類 ウ. 肉類 エ. 野菜類

問5 下線部⑤について、わが国の企業は、1980年代後半から海外の工場での生産を増やしました。そのため、国内の工場での生産がおとろえ、工場の閉鎖や失業者の増加などが問題となっています。このような問題を何というか答えなさい。

問6 下線部⑥について、右の表中の空欄（A）にあてはまる国名を答えなさい。

<各国・地域別日本人訪問者数>

順位	訪問先	2004年
1位	アメリカ	3,747,620人
2位	(A)	3,334,255人
3位	大韓民国	2,443,070人
4位	タイ	1,212,213人
5位	香港	1,126,250人

(国際観光振興機構)

第2問 次の日本の世界遺産に関する表を見て、下線部①～⑧についての問いに答えなさい。

(自然遺産)

遺産名	所在地	登録年月
1. 白神山 <small>しらかみ</small> 地	①青森県, 秋田県	1993年12月
2. 屋久島 <small>やく</small>	鹿児島県	1993年12月
3. ② ()	北海道	2005年7月

(文化遺産)

遺産名	所在地	登録年月
1. 法隆寺地域の仏教建造物 <small>ほうりゅうじ</small>	奈良県	1993年12月
2. 姫路城 <small>ひめじ</small>	兵庫県	1993年12月
3. 古都京都の文化財	京都府, ③滋賀県	1994年12月
4. 白川郷・五箇山の合掌造り集落 <small>ごかやま がっしょう</small>	岐阜県, ④富山県	1995年12月
5. 原爆ドーム <small>げんばく</small>	広島県	1996年12月
6. ⑤厳島神社 <small>いつくしま</small>	広島県	1996年12月
7. 古都奈良の文化財	奈良県	1998年12月
8. 日光の社寺 <small>にっこう</small>	⑥栃木県	1999年12月
9. 琉球王国のグスク及び関連遺跡群 <small>りゅうきゅう</small>	⑦沖縄県	2000年12月
10. 紀伊山地の霊場と参詣道 <small>きい</small>	⑧三重県, 奈良県, 和歌山県	2004年7月


<果物の主産地の生産量>

問1 下線部①について、右のグラフはある果物の都道府県別生産量の割合をあらわしています。この果物を答えなさい。

問2 下線部②について、空欄にあてはまる遺産名を答えなさい。

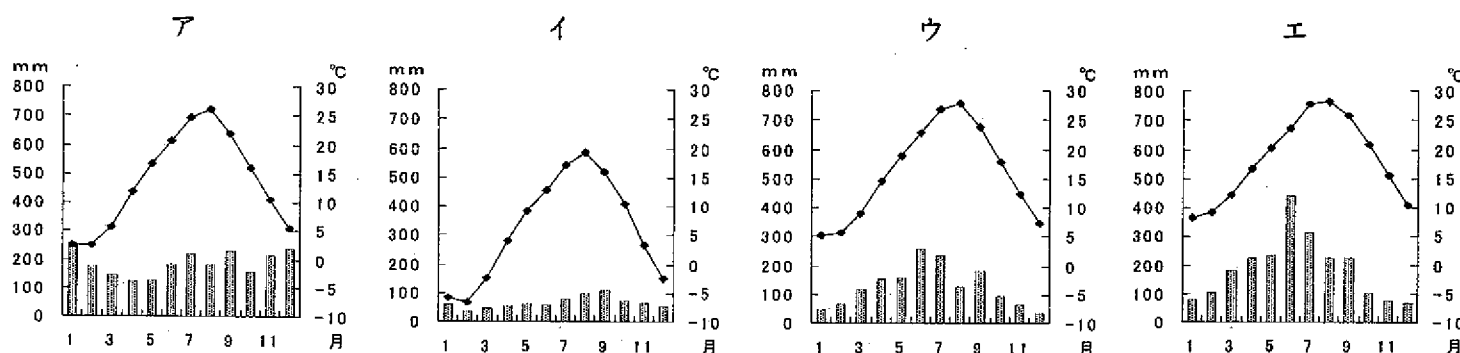
問3 下線部③について、琵琶湖に関する説明としてまちがっているものを、次のア～エから1つ選び、記号で答えなさい。

- ア. 琵琶湖は、面積が日本最大の湖である。
- イ. 琵琶湖の南西には、県庁所在地の津市がある。
- ウ. 琵琶湖の水は、淀川を流れて大阪湾に出る。
- エ. 琵琶湖は、ラムサール条約に登録されている。



(日本国勢図会2005/06)

問4 下線部④について、富山市の月別平均気温と月別降水量をあらわしたグラフを、次のア～エから1つ選び、記号で答えなさい。



(理科年表2005)

問5 下線部⑤について、神社の地図記号を答えなさい。

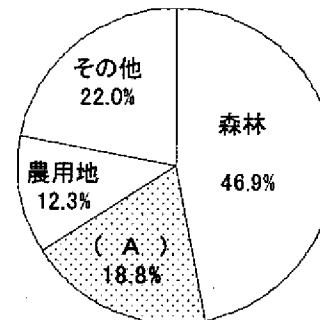
問6 下線部⑥について、この県の県庁所在地を答えなさい。

問7 下線部⑦について、右のグラフ中の空欄 (A) にあてはまる語句を答えなさい。

問8 下線部⑧について、ここにある日本を代表する美しい森林を、次のア～エから1つ選び、記号で答えなさい。

- ア. 吉野のすぎ林
- イ. 木曾のひのき林
- ウ. 天竜のすぎ林
- エ. 尾鷲のひのき林

<沖縄本島の土地利用 2004年>



(沖縄県資料)

第3問

次のA～Fの文章は、各時代における人びとの生活のようすやその時代の文化をあらわしています。文中の空欄(1)～(12)にあてはまる語句を答えなさい。また、文中の下線部①～⑥についての問いにも答えなさい。

A. 今から約1万2000年前にはじまる(1)時代に生きた人びとは、山や野で狩りをしたり、海や川で魚や貝をとったりして生活していました。彼らが貝殻などをすてた「ごみすて場」は、①貝塚とよばれています。次の弥生時代になると、全国的に米作りがおこなわれるようになりました。静岡県にある(2)遺跡は、今から1800年前の水田のあとがのこる遺跡として有名です。

問1 下線部①について、大森貝塚を発見したアメリカ人を、次のア～エから1つ選び、記号で答えなさい。
ア. モース イ. ナウマン ウ. クラーク エ. ベルツ

B. 奈良時代の農民たちは、重い税に苦しみ、貧しい生活を送っていました。彼らの生活のようすは、わが国最古の歌集である『(3)』におさめられている②「貧窮問答歌」でも知ることができます。一方、貴族たちは都でぜいたくなくらしを送っていました。次の平安時代になると、有力な貴族は政治の実権をにぎるようになり、(4)造で建てられた大邸宅で華やかな生活をしていました。

問2 下線部②について、この歌の作者を、次のア～エから1つ選び、記号で答えなさい。
ア. 柿本人麻呂 イ. 大伴家持 ウ. 山上憶良 エ. 阿倍仲麻呂

C. 鎌倉時代になると、牛馬を使った農耕や、米と麦の(5)がはじまり農業生産力が向上しました。また、この時代に生まれた新しい仏教は③指導者の活動により、武士や庶民の間にも広まりました。次の室町時代になると、農民たちは村の長老を中心にして団結し、(6)とよばれる会議をひらいて、村のおきてや用水利用などについて決めるようになりました。

問3 下線部③について、これにあてはまらない人物を、次のア～エから1つ選び、記号で答えなさい。
ア. 親鸞 イ. 日蓮 ウ. 道元 エ. 空海

D. 江戸時代になると、武士や農民・町人などの身分がはっきりと定められました。武士の生活は農民のおさめる年貢によって支えられていたので、農民はきびしい支配を受けました。農民は、村の中で(7)という組織にまとめられ、年貢をおさめなかつたり罪をおかしたりすると共同で責任を負わされました。一方、しだいに経済力をつけた町人は、上方を中心とする④元禄文化や、江戸を中心とする(8)文化などの町人文化を生み出しました。

問4 下線部④について、この文化にあてはまらない人物を、次のア～エから1つ選び、記号で答えなさい。
ア. 近松門左衛門 イ. 井原西鶴 ウ. 歌川広重 エ. 松尾芭蕉

E. 明治時代になると、政府は⑤欧米諸国の制度や技術を取り入れて、日本の近代化をはかろうとしました。それにもなつて、人びとの生活にも変化が生まれました。こうした西洋化のながれは、(9)とよばれ、東京や横浜などの都市部を中心に広まりました。また、欧米の学問の影響で科学も進歩し、破傷風の治療法を発見した(10)や、黄熱病の研究をした野口英世などのすぐれた研究者が活躍しました。

問5 下線部⑤について、1871年から2年間、アメリカやヨーロッパの社会の様子や政治のしくみを学ぶために派遣された使節団の大使をつとめた人物を、次のア～エから1つ選び、記号で答えなさい。
ア. 福沢諭吉 イ. 岩倉具視 ウ. 伊藤博文 エ. 大久保利通

F. 1945年8月に(11)宣言を受け入れて敗戦国となった日本では、食料不足と急激な物価上昇によって、人びとは苦しい生活を強いられました。しかし、1950年に始まった(12)戦争をきっかけとする特需景気によって日本の経済は急速に復興し、人びとの生活は豊かになりました。⑥1956年に発表された『経済白書』には「もはや戦後ではない」という言葉がつかわれました。

問6 下線部⑥について、この年のできごととして正しいものを、次のア～エから1つ選び、記号で答えなさい。
ア. 東京オリンピックの開催 イ. 日本の国際連合加盟
ウ. 東海道新幹線の開通 エ. 所得倍増計画の発表

第4問 次のA・Bの文章を読んで、文中の空欄(1)～(4)にあてはまる語句を答えなさい。
また、下線部①～⑥についての問いにも答えなさい。

A. わが国の政治のしくみは、(1)府である①国会、行政府である②内閣、司法府である③裁判所からなっています。また、バランスのとれた政治をおこなうため、一つの機関だけに権限が集中しないよう、役割を分担しています。このようなしくみを(2)といいます。

問1 下線部①について、これの説明として正しいものを、次のア～エから1つ選び、記号で答えなさい。

- ア. 衆議院の議員数は242名で、任期は4年である。
- イ. 衆議院の議員数は480名で、任期は6年である。
- ウ. 参議院の議員数は480名で、任期は4年である。
- エ. 参議院の議員数は242名で、任期は6年である。

問2 下線部②について、これの仕事としてまちがっているものを、次のア～エから1つ選び、記号で答えなさい。

- ア. 外国と結んだ条約を承認する。
- イ. 国の予算案を作成する。
- ウ. 天皇の仕事に助言と承認を与える。
- エ. 最高裁判所の長官を指名する。

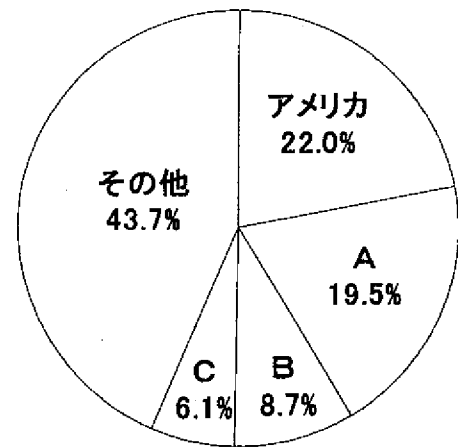
問3 下線部③について、これについて正しいものを、次のア～エから1つ選び、記号で答えなさい。

- ア. すべての裁判官は国民審査を受ける。
- イ. 国民は誰でも裁判を受けることができる。
- ウ. 裁判は原則として非公開である。
- エ. 裁判は原則として2回まで受けられる。

B. ④国際連合は世界の平和を願って、1945年に発足しました。国連は6つの主要機関と多くの委員会、専門機関などから成り立っています。(3)は最高機関で、全加盟国が参加して開かれます。(4)理事会は国際平和を守るための機関で、5つの⑤常任理事国とその他の非常任理事国から構成されています。経済社会理事会の下には国際労働機関や⑥世界保健機関などの専門機関があります。

問4 下線部④について、右のグラフは国連分担金(2004年)の国別割合をあらわしています。グラフ中のA～Cの組み合わせとして正しいものを、次のア～エから1つ選び、記号で答えなさい。

	A	B	C
ア	日本	ドイツ	イギリス
イ	ロシア	日本	中国
ウ	イギリス	日本	ドイツ
エ	日本	ロシア	中国



(国際連合資料)

問5 下線部⑤について、これにあてはまる国を、次のア～エから1つ選び、記号で答えなさい。

- ア. イタリア
- イ. フランス
- ウ. オランダ
- エ. ドイツ

問6 下線部⑥について、この機関の略称を、次のア～エから1つ選び、記号で答えなさい。

- ア. IBRD
- イ. WTO
- ウ. WHO
- エ. UNICEF

第5問 次のA～Eの文章は、2005年のできごとです。文中の空欄(1)～(5)にあてはまる語句を、次のア～エから1つ選び、記号で答えなさい。

- A. 3月25日、「自然の叡智」をテーマに、地球的課題の解決を前面に打ち出した万国博覧会が(1)県で開幕した。日本で35年ぶりとなるこの博覧会には、約2205万人が訪れ、9月25日、185日間の日程を終えた。
ア. 静岡 イ. 愛知 ウ. 三重 エ. 和歌山
- B. 4月19日、バチカンのシスティーナ礼拝堂で開かれていた「コンクラーベ」の結果、(2)が新しい教皇(ローマ法王)に選出された。礼拝堂の煙突からは決定の合図となる白い煙が上がり、サンピエトロ大聖堂の鐘が鳴り響いた。
ア. パウロ6世 イ. ヨハネ23世 ウ. ヨハネ・パウロ2世 エ. ベネディクト16世
- C. 6月8日、サッカーの日本代表チームは、アジア最終予選B組の北朝鮮(朝鮮民主主義人民共和国)戦に勝利し、2006年に(3)で開かれる、ワールドカップ本大会への出場権を獲得した。
ア. イギリス イ. フランス ウ. ドイツ エ. イタリア
- D. 7月26日、日本人宇宙飛行士の野口聡一さんが乗り組んだ(4)がフロリダ州のケネディー宇宙センターから打ち上げられた。このスペースシャトルは約2週間の実験飛行を終えて、8月9日、カリフォルニア州のエドワーズ空軍基地に無事帰還した。
ア. ディスカバリー イ. コロンビア ウ. エンデバー エ. アトランティス
- E. 8月8日、(5) 民営化関連法案が参議院本会議で否決され、内閣は衆議院を即日解散した。これをうけて、9月11日、第44回衆議院議員総選挙がおこなわれ、自由民主党が多数の議席を獲得し、圧勝した。
ア. 郵政 イ. 道路公団 ウ. 国立病院 エ. 国立大学

第6問 次の文章を参考にして、あなたが今の生活の中でもっとも「もったいない」と思うことについて、その理由や解決方法などを示し、100字以内で書きなさい。なお、句読点も1字と数えます。

ケニアの環境副大臣であるワンガリ・マータイさんは、砂漠化がすすむアフリカに緑を増やそうと、木を植える活動「グリーンベルト運動」を広げたことが認められて、2004年にノーベル平和賞を受賞しました。

昨年2月に来日したマータイさんは、「もったいない」という言葉に出会いました。日本では昔から、ものをむだにしてしまったら「もったいない」と残念に思ったり、人からものをもらったら「もったいない」とありがたく思ったり、ものをとても大切にしてきました。

この言葉に感心したマータイさんは、「もったいない」を世界中に広めたいと考えました。

