

平成 18 年度

北嶺中学校入学試験問題

社 会

(注意)

- 1 問題用紙が配られても、「はじめ」の合図があるまでは、中を開かないでください。
- 2 問題は全部で **10** ページで、解答用紙は 1 枚です。「はじめ」の合図があったら、まず、ページ数を確認してからはじめてください。もし、ページがぬけていたり、印刷されていなかったりする場合は、静かに手をあげて先生に伝えてください。
- 3 答えはすべて解答用紙の指定された解答らんを書いてください。
- 4 字数が指定されている場合には、特に指示のないかぎり句読点も数えてください。
- 5 質問があったり、用事ができた場合には、だまって手をあげて先生に伝えてください。ただし、問題の考え方や、言葉の意味・読み方などについての質問には答えられませんので注意して下さい。
- 6 「おわり」の合図で鉛筆をおき、先生が解答用紙を集めおわるまで、静かに待っていてください。

1 つぎの北海道に関する文を読んで、後の問いに答えなさい。

北海道は、(a)日本の国土の北の端にある北海道本島といくつかの島からなる地方で、面積は全国の都道府県の中でもっとも広い(b)約8万3000km²です。人口は約565万人で、そのうちの約3分の1にあたる188万人が(c)札幌市に集中しています。

生産活動の大きさをあらかず道内の総生産はおよそ20兆円(1999年)で、全国のおよそ4%を占めます。これはトルコや(d)デンマークの国内総生産(GDP)と同じくらいの額です。産業別にみると、(e)農業や漁業などの第一次産業が3.5%、製造業などの第二次産業が24.3%、(f)サービス業や観光業などの第三次産業が72.2%となっています。

北海道では、今後の未来づくりに向けて長期的な計画をたて、その中で「さまざまなライフスタイルの実現の場」「(g)北方圏地域や東アジア地域などとの連携の場」「(h)安全で良質な食料などの安定供給の場」「(i)環境と調和し創造性あふれる産業展開の場」を提案しています。

- (1) 下線部(a)について、つぎの文は日本の最も端にある島について述べたものです。どこに位置する何という島ですか。正しいものを下のア～エから一つ選び、記号で答えなさい。

人口が約2000人のこの島では、農業が中心的な産業で、一年中暖かい気候を利用してサトウキビの栽培や、米の二期作が行われています。

- | | |
|---------------|--------------|
| ア 日本の最西端の与那国島 | イ 日本の最南端の沖ノ島 |
| ウ 日本の最南端の与那国島 | エ 日本の最東端の南島 |

- (2) 下線部(b)について、北海道の面積は、日本の国土のおよそ何%を占めますか。もっとも適切なものを、つぎのア～エから一つ選び、記号で答えなさい。

- ア 11% イ 22% ウ 33% エ 44%

- (3) 下線部(e)について、札幌は明治時代に都市の基礎が築かれましたが、このとき、京都がモデルになったといわれます。札幌は京都のどのような特徴をモデルにしたと考えられますか。簡単に答えなさい。

- (4) 下線部(d)について、つぎのそれぞれの問いに答えなさい。

- ① デンマークは酪農がさかんで、とくに豚の飼育が多いことで有名ですが、日本で豚の飼育が最も多い都道府県はどこですか。都道府県の名を答えなさい。
- ② デンマークは平地とゆるやかな丘の広がる国で、国内で最も標高が高い地点でも173mしかありません。そのため大きな川もなく、水道の水源はすべて地下水です。また、デンマークは1985年に公共のエネルギーとして原子力発電を利用しないことが決議され、同時に二酸化

炭素 CO₂の排出量の削減をめぐることが決められました。このようなデンマークでは、どのような発電の方法が進められていると考えられますか。

- (5) 下線部(e)について、北海道の各地の農業を説明した文として正しいものを、つぎのア～エから一つ選び、記号で答えなさい。

- ア 石狩平野は一面に牧草が広がる酪農地帯で、とくに大規模な経営を行う酪農家が多い。
- イ 根釧台地はジャガイモやてんさいなどの畑が広がり、機械化を進めた農業が行われている。
- ウ 十勝平野は稲作がさかんで、さらに397やゆきひかりなどのブランド米の生産量が多い。
- エ 上川盆地は稲作とともに畑作もさかんで、札幌などの大都市に出荷する野菜の生産も多い。

- (6) 下線部(f)について、北海道の第三次産業のようすを説明した文として誤っているものを、つぎのア～エから一つ選び、記号で答えなさい。

- ア 「さっぽろ雪まつり」には、国内外の観光客がたくさん訪れています。
- イ 東北新幹線が青函トンネルまで開通し、鉄道の輸送量が飛躍的に伸びています。
- ウ 新千歳空港は北海道の玄関口で、国内線だけでなく国際線も発着しています。
- エ 札幌駅周辺は再開発によって高層ビルが建てられ、大型デパートも進出しています。

- (7) 下線部(g)について、この地域の国々と日本との関わりを述べた文として誤っているものを、つぎのア～エから一つ選び、記号で答えなさい。

- ア 日本政府はロシア（ロシア連邦）に対し、北方領土をめぐることが現在まで決着していないと主張しています。
- イ 中国（中華人民共和国）は日本に比べて人件費が安いと、繊維や電気機械などを製造する日本の企業がたくさん移転しています。
- ウ 韓国（大韓民国）は、日本が植民地として支配した過去がありますが、現在では日本の最大の貿易相手国です。
- エ 北朝鮮（朝鮮民主主義人民共和国）と日本は、現在でも正式な国交はありません。

- (8) 下線部(h)について、日本政府は昨年12月に「ある国」からの「ある食品」の輸入を再開しました。この食品は、BSEという病気の危険があったため、約2年間にわたって輸入が停止されていたものでした。この食品の名と、昨年末まで輸入を停止してきた国の名を、それぞれ答えなさい（国名は略してもよい）。

- (9) 下線部(i)について、北海道は豊かな自然環境に恵まれています。なかでも知床半島は昨年7月にユネスコ（国連教育科学文化機関）の世界自然遺産に登録されました。この知床半島の自然に影響を与えている寒流の名を、漢字2字で答えなさい。

2 つぎの文を読んで、後の問いに答えなさい。

昨年は(a)日本で5回目の国際博覧会である「愛・地球博」が開かれました。この国際博覧会(万博)は、「自然の叡智」をテーマに、環境や(b)生命を中心とした出展がさまざまに見られました。開催地は愛知県で、3月から9月までの半年間に目標の1500万人を大幅に超える2200万人余りが訪れました。その愛知県の歴史や産業をみてみましょう。

愛知県は(c)気候が温暖で、(d)木曾川や長良川などの河口に広がった豊かな平野は稲作に適し、また京都に近いことから、戦国時代にはこの地から織田信長や豊臣秀吉などの名立たる武将が出ました。この地域は、徳川家康が江戸幕府を開いたのちに尾張藩となり、(e)徳川御三家の一つとなりました。特産物は鎌倉時代から生産されてきた(f)陶磁器や、室町時代から栽培された(あ)からつくる織物があります。そして明治時代には、(あ)を原料とする紡績業が発達し、昭和時代以降は(g)中京工業地帯の中心として自動車や鉄鋼などの重化学工業が発展してきました。とくに自動車は、豊田市に国内最大の工場があります。ここに本社工場をおくトヨタは、初め織物機械や紡績機械を作り、のちに自動車工業を発展させた企業で、現在は(h)排ガスや燃料の消費をおさえた自動車も生産しています。また、愛知県の県庁所在地である名古屋市は、自動車などを海外に輸出する大規模な港や、東京と大阪の間を結ぶ新幹線などの鉄道や高速道路が通る(i)交通の要所になっています。

- (1) 文中の空らん(あ)に共通してあてはまる農産物を答えなさい。
- (2) 下線部(a)について、日本で初めての国際博覧会(万博)は、「人類の進歩と調和」をテーマに1970年に開かれました。「太陽の塔」を会場のシンボルとしたこの博覧会は、入場者6422万人という盛り上がりを見せました。この国際博覧会(万博)が開催された都道府県の名を答えなさい。
- (3) 下線部(b)について、「愛・地球博」では、約1万年前に絶滅した動物が、シベリアの凍った土の中から発掘された状態で展示されました。この動物は、かつてはユーラシア大陸から北アメリカ大陸に広く分布し、日本にもいたといわれます。この動物の名を、カタカナ4字で答えなさい。
- (4) 下線部(c)について、つぎのそれぞれの問いに答えなさい。
 - ① 愛知県南部の渥美半島では、ビニールハウスと電灯の照明を利用した花の栽培がさかんで、全国一の生産をあげています。この花の名を答えなさい。
 - ② 渥美半島は水の得にくい地域でしたが、現在までに用水路がひかれ農業用水や工業用水に利用されています。この用水路の名として正しいものを、つぎのア～エから一つ選び、記号で答えなさい。
ア 愛知用水 イ 明治用水 ウ 豊川用水 エ 箱根用水

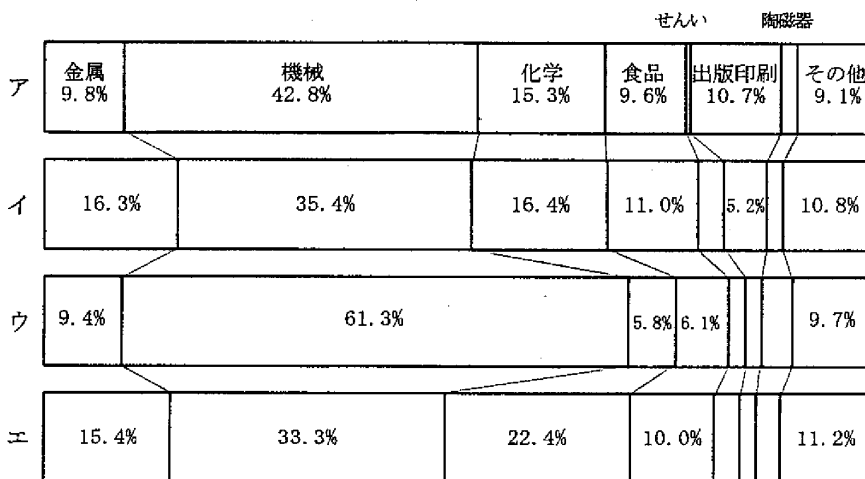
(5) 下線部(d)について、この川の上流の森林は、かつては尾張藩によって伐採が厳しく制限されていたこともあり、現在まで美しい天然の森林が保たれています。この森林をつくる樹木として正しいものを、つぎのア～エから一つ選び、記号で答えなさい。

ア ひば イ すぎ ウ まつ エ ひのき

(6) 下線部(e)について、徳川御三家とは尾張藩と水戸藩（現在の茨城県）と、もう一つはどこですか。江戸時代の藩の名と、現在の都道府県の名を答えなさい。

(7) 下線部(f)について、愛知県北西部には全国一の陶磁器の生産地があり、その地名は陶磁器の総称にもなっています。この陶磁器の生産地は、「愛・地球博」の主な会場の一つにもなりました。この地名を答えなさい。

(8) 下線部(g)について、つぎのア～エのグラフは日本の主な工業地域の工業製品出荷額（2001年）の割合です。このうち、中京工業地帯のものを一つ選び、記号で答えなさい。



注) せんい、陶磁器などの割合の小さいものは、グラフ内に数値を示していません。

(9) 下線部(h)について、ガソリンエンジンと電気モーターの2種類の動力を持つ、環境にやさしい自動車を何といいますか。カタカナで答えなさい。

(10) 下線部(i)について、「愛・地球博」が開催する前月に、常滑市の沖に海上空港が開港されました。この空港の名を漢字で答えなさい。

3 つぎの文を読んで、後の問いに答えなさい。

現在は「国際化」の時代といわれていますが、(a)16世紀にヨーロッパ人が来航するまで、日本にとっての国際社会とは、中国を中心とする「東アジア世界」でした。つぎの史料と出来事A～Fは、古代から中世にかけての日本と「東アジア世界」の関わりを年代順に並べたものです。

- A 「楽浪（中国が朝鮮北部に置いた四郡の一つ）の海の向こうに（あ）人が住んでいる。百国あまりの小国に分かれており、毎年のように貢物を持ってくる。」
- B 「建武中元2年（57年）、（あ）の（い）の使者が貢物を持ってあいさつに来て、自分は大夫（大臣）だと言った。光武帝（中国の皇帝）は使者に金印と組みひもを与えた。」
- C 「(607年、) その（日本からの）国書には『太陽の昇るところの国の天子が、太陽の沈むところの国の天子に手紙をさしあげます。お変わりありませんか。』と書かれていた。煬帝（中国の皇帝）はこの国書を見て不愉快に思い、『今後、このような野蛮国からの無礼な国書は二度と耳に入れるな』と言った。」
- D 現在の神戸を中心として中国の宋との貿易が行われた。
- E 「無尽蔵なこの島国（日本）の富を伝え聞いたフビライ・ハンは、武力をもってこれを征服しようと決意し、二人の重臣に歩兵・騎兵の大軍と大艦隊を与えてこの島国に向かわせたのである。」
- F 足利義満が中国の明との間で勘合を用いた貿易を行った。

- (1) 下線部(a)について、1543年に種子島に漂着して鉄砲を日本に伝えた国の名を答えなさい。
- (2) 史料A・Bの空らん（あ）には、当時の中国が日本を表した呼び名が入ります。何という語が入りますか。漢字1字で答えなさい。

- (3) 史料Bの空らん（い）に適する国の名を、つぎのア～エから一つ選び、記号で答えなさい。

ア 邪馬台国 イ 奴国 ウ 大和国 エ 蝦夷

- (4) 史料Cについて、つぎのそれぞれの問いに答えなさい。

- ① 中国に国書を送った人物の名を答えなさい。
- ② 国書を受け取った中国は、何という国でしたか。つぎの中から一つ選び、記号で答えなさい。

ア 秦 イ 漢 ウ 隋 エ 唐


(5) 史料C～Dのあいだの平安時代には、菅原道真の意見により中国への使節の派遣が廃止され、国風文化が栄えました。これについて、つぎのそれぞれの問いに答えなさい。

- ① 紫式部が貴族の恋愛と悲劇を描いた作品名を答えなさい。
- ② このころの貴族の屋敷の造り方として適当なものを、つぎのア～エから一つ選び、記号で答えなさい。

ア しんてんづくり 寝殿造 イ みげくらづくり 校倉造 ウ しよんづくり 書院造 エ がつしやうづくり 合掌造

(6) 史料Eについて、つぎのそれぞれの問いに答えなさい。

- ① つぎのア～エの図のうち、この出来事に関連のあるものを一つ選び、記号で答えなさい。



- ② この史料で日本は「黄金の国ジバング」として描かれていますが、日本の金山は戦国時代から本格的に開発がすすみ、江戸時代の前半に大量の金を産出しました。江戸時代に日本最大の金山があり、「黄金の島」「江戸幕府の金庫」とよばれて栄えた島の名を答えなさい。

(7) 出来事Fについて、室町幕府は朝廷による建武の新政を倒して成立しました。建武の新政を行った天皇または上皇を、つぎのア～エから一つ選び、記号で答えなさい。

ア 聖武天皇 イ 桓武天皇 ウ 後鳥羽上皇 エ 後醍醐天皇

4 つぎの年表について、後の問いに答えなさい。

1603年 (a)徳川家康が江戸幕府を開く	1867年 大政奉還が行われる (f)
1637年 島原の乱が起こる	1877年 (e)西南戦争が起こる
1680年 徳川綱吉が将軍となる	1881年 (h)国会開設の詔が出される
1709年 (b)新井白石が改革を始める	1889年 (i)大日本帝国憲法が公布される
1716年 (c)享保の改革が始まる	1894年 日清戦争が始まる
1767年 田沼意次の政治が始まる	1904年 日露戦争が始まる
1787年 (d)寛政の改革が始まる	1910年 日本が韓国を植民地にする
1837年 (e)の乱が起こる	1911年 (j)条約改正が達成される
1841年 天保の改革が始まる	


(1) 下線部(a)について、この当時の江戸幕府の説明として正しい文を、つぎのア～エから一つ選び、記号で答えなさい。

- ア 鎖国を完成させ、外国との貿易をいっさい行わないようになった。
- イ 武家諸法度を定め、江戸と国元を往復する参勤交代を全国の武士の義務とした。
- ウ 幕府の重要な役職には、加賀藩や薩摩藩のような石高の大きい大名がいた。
- エ 幕府が全国の土地の約4分の1を直接に支配し、さらに重要な港や鉱山も支配した。

(2) 下線部(b)について、この改革は「正徳の治」とよばれます。この改革で行われたこととして正しいものを、つぎのア～エから一つ選び、記号で答えなさい。

- ア 犬などの動物を極端に保護する生類憐れみの令を廃止した。
- イ 農民の生活を厳しく制限した慶安のお触書を廃止した。
- ウ キリスト教の信者を見つけるための踏み絵を廃止した。
- エ 上昇する物価の引き下げをはかるために株仲間の制度を廃止した。

(3) 下線部(c)について、この改革の中でヨーロッパの書物の輸入が部分的に認められるようになり、1774年には杉田玄白や前野良沢らがヨーロッパの医学書を日本語に訳し、右の図のような書物を出版しました。この書物の名を漢字4字で答えなさい。



(4) 下線部(d)について、この改革の中心となった老中^{らうじゆう}の名を答えなさい。

- (5) つぎの文は、空らん (e) の人物が大坂 (当時は「大坂」と書いた) で幕府への反乱を起こすときに呼びかけた文です。この人物の名を答えなさい。

天災が続き、人々が飢饉^{ききん}で困っているのは、幕府の政治が悪いからである。役人は重い年貢のうえに、さらに多くの金を取り立てるので、農民の苦しみはひどい。大商人は、米を買い集め、貧しい人々が飢え死にするのを救おうとしない。そこで私は、心ある人たちとともに戦う決意をした。大坂に騒動^{さわどう}が起こったと聞いたら、一刻も早く駆けつけてほしい。万民^{ばんみん}を幸せにする世の中をつくりたい。

- (6) 年表中 (f) の時期にはさまざまな改革が行われました。この時期に行われた改革として誤っているものを、つぎのア～エから一つ選び、記号で答えなさい。

ア 廃藩置県 イ 徴兵令 ウ 男子普通選挙 エ 地租改正

- (7) 下線部 (g) は、明治政府の改革に不満をもった士族たちの反乱でした。この反乱の指導者となった西郷隆盛は、反乱を起こす前に、士族の地位を守るためにある国への出兵を主張しました。その国の名を答えなさい。

- (8) 下線部 (h) について、国会開設は板垣退助らを中心とした国民的な運動によって実現したものでした。この運動の名を答えなさい。

- (9) 下線部 (i) について、大日本帝国憲法は天皇に大きな権限を与えるものでした。この憲法を作成するときに、日本はある国の憲法を参考にしました。その国の名を答えなさい。

- (10) 下線部 (j) について、このときの外務大臣は、日露戦争の講和条約をむすぶ会議で日本の代表をつとめた人物でもありました。この人物と、彼の働きについて正しく述べた文を、つぎのア～エから一つ選び、記号で答えなさい。

ア この人物は陸奥宗光で、彼の働きによって関税自主権の回復に成功した。
イ この人物は小村寿太郎で、彼の働きによって関税自主権の回復に成功した。
ウ この人物は陸奥宗光で、彼の働きによって治外法権^{ていがい}の撤廃に成功した。
エ この人物は小村寿太郎で、彼の働きによって治外法権の撤廃に成功した。

5 つぎの文を読んで、後の問いに答えなさい。

日本国憲法は、今年で誕生から60年目を迎えます。1945年8月、日本は（あ）宣言を受け入れ、敗戦を迎えました。その後、日本政府は、この宣言にそって、軍国主義を取り除いた民主的な政治を進めました。日本国憲法もこのような動きの中で生まれました。

日本国憲法は、議会での長い議論を終えた1946年11月に公布され、翌47年5月から施行されました。わたしたちは、現在、この憲法の下で生活し、日本の政治もこの憲法にもとづいて行われています。「主権者は国民である」という国民主権主義や、「日本は二度と戦争をしない」という平和主義、そして「国の権力は三つに分ける」という三権分立主義も、すべてこの憲法の中に書かれています。

この憲法では、戦前の憲法で主権者とされていた天皇は、国や国民の（い）であると定められ、また、天皇は決められた仕事（国事行為という）だけを行い、（う）に関する仕事は行わないことが定められました。

平和主義については、日本が二度と戦争をしないために（え）を持つのをやめ、国の（お）権も認めていません。そのために、国際社会の求めに応じて自衛隊を外国に派遣するときも、いろいろな制約があります。さらに、日本は世界でただ一つの被爆国であることから、非核三原則を決めています。

国の権力は、国会・内閣・裁判所の三つの機関に分けられています。このように権力を分けることは、フランスの思想家モンテスキューが考えたもので、現在は世界中の多くの国で行われています。

- (1) 空らん（あ）に適する語句を答えなさい。
- (2) 空らん（い）（う）に適する語句を、それぞれ漢字2字ずつで答えなさい。
- (3) 空らん（え）（お）に適する語句を、それぞれ漢字2字ずつで答えなさい。
- (4) 天皇の国事行為として誤っているものを、つぎのア～エから一つ選び、記号で答えなさい。

- ア 外国の大使などをもてなすこと。
- イ 文化勲章などの栄典を授与すること。
- ウ 衆議院を解散すること。
- エ 予算を決定すること。

- (5) 天皇の国事行為を説明した文として正しいものを、つぎのア～エから一つ選び、記号で答えなさい。

- ア 国事行為は、国会の審議と議決にもとづいて行われます。
- イ 国事行為は、内閣の助言と承認にもとづいて行われます。
- ウ 国事行為は、裁判所の審理と許可にもとづいて行われます。
- エ 国事行為は、国民の支持と投票にもとづいて行われます。

(6) 現在、女性が天皇になることについて議論されていますが、天皇に関する説明として正しいものを、つぎのア～エから一つ選び、記号で答えなさい。

- ア 日本の長い歴史の中で、女性の天皇は数人いました。
- イ 日本国憲法の下での天皇は、現在の天皇を含めて4人います。
- ウ 天皇にも定年の制度がありますが、適用されたことはありません。
- エ 天皇の地位は国民の総意にもとづくので、国民投票での承認が必要です。

(7) 日本は平和主義にもとづいて、防衛政策をたてています。日本の防衛政策に関して、もっとも適切な文を、つぎのア～エから一つ選び、記号で答えなさい。

- ア 日本が決めている非核三原則とは、「核兵器を作らず、買わず、売らず」という内容です。
- イ 日本は、アメリカとの間に1951年に初めて安全保障条約を結びました。
- ウ 日本は、近隣諸国との防衛協力のため、中国や韓国と共同で軍事演習を行っています。
- エ 日本は、高度な科学技術をいかして多くの武器を作り、中国や韓国に輸出しています。

(8) 自衛隊の海外派遣に関する文として正しいものを、つぎのア～エから一つ選び、記号で答えなさい。

- ア 自衛隊は、さまざまな世論を考慮して、現在までどこにも派遣されたことがありません。
- イ 自衛隊は、9.11テロ事件の時にニューヨークに派遣され、現在も駐留しています。
- ウ 自衛隊の海外での活動はすべて終了し、現在はどこにも派遣されていません。
- エ 自衛隊は、国会で決めた法律にもとづいて、近年、いくつかの地域に派遣されています。

(9) 国会の役割を説明した文として適するものを、つぎのア～キから二つ選び、記号で答えなさい。

- ア 国会は、内閣総理大臣を指名します。
- イ 国会は、国務大臣を指名します。
- ウ 国会は、副大臣や政務官を指名します。
- エ 国会は、最高裁判所長官を指名します。
- オ 国会は、すべての裁判所の裁判官を指名します。
- カ 国会は、最高裁判所裁判官の国民審査を行います。
- キ 国会は、裁判官をやめさせるための弾劾^{だんがく}裁判を行います。

(10) 三権分立主義を多くの国が採用している理由としてもっとも適する文を、つぎのア～エのうちから一つ選び、記号で答えなさい。

- ア 権力をいくつかに分けることによって、多くの人が多くの役職につけるようにしたため。
- イ たくさんの仕事を分けることによって、効率よく仕事が進むようにしたため。
- ウ 権力が一つに集中して巨大化しすぎると、国民の権利をおかす危険があるため。
- エ 権力を三つに分けることは、国際連合憲章に定められているため。