

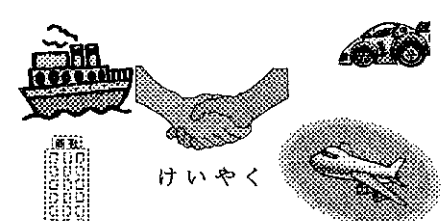
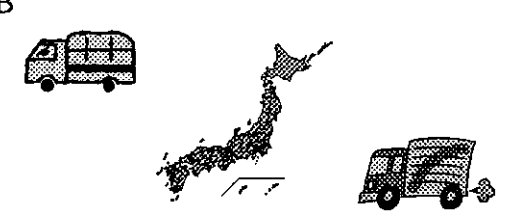
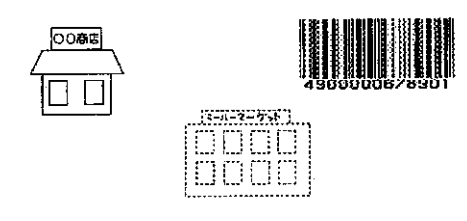
平成13年度 札幌光星中学校入学試験問題 社会

注意事項

1. 試験時間は、45分間です。
2. 開始の合図により、始めて下さい。
3. 印刷が不明な場合のほかは、問題についての質問は受けません。
4. 解答は、すべて解答用紙に記入してください。
5. 試験終了後は、解答用紙回収が終わるまで、席を立たず、静かにしててください。

1

次のA～Cの図と文章を読んで、下の問いに答えなさい。

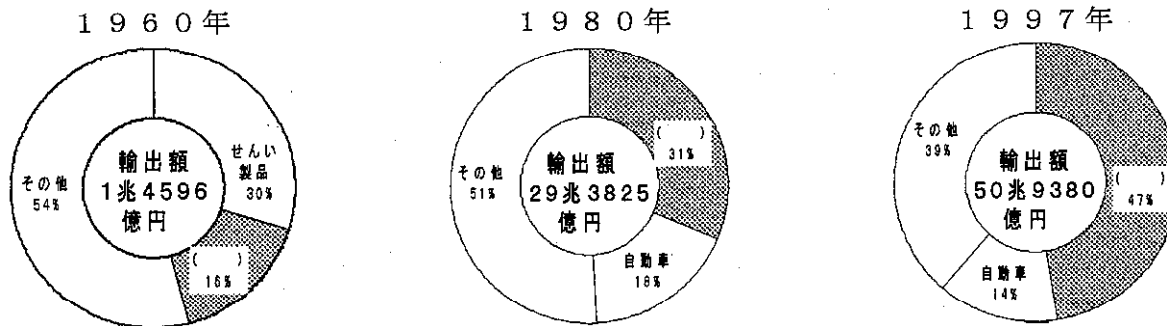
<p>A</p>  <p>わが国は、国土がせまく、地下資源にも恵まれないため、たくさんのおものを外国から輸入している。そして①輸入した資源を使って製品をつくり、世界中の国々へ輸出している。わが国は島国であるため、輸出・輸入であつかわれるものは、②船や飛行機で運ばれる。</p>	<p>B</p>  <p>今日、③流通業の発達によってわたしたちの生活は豊かで便利になった。わが国は④南北に長い列島であるため、かつては地域ごとにとれる農作物が限られ、食べ物には⑤地域性があった。しかし現在では、各地の食べ物を⑥新鮮なうちに食べることが可能になった。また技術の進歩にとともに、⑦季節に関係なく、年中好きなものを食べられるようになった。</p>	<p>C</p>  <p>わたしたちが、ものを買う場所は、時代とともに大きく変わってきた。今日は、デパートやスーパーマーケットのような店ばかりではなく、⑧様々な特色を打ち出した大型店が次々に誕生してきている。また、店の規模の小さな⑨コンビニエンスストアが売り上げを伸ばしている。最近の店は、積極的に⑩コンピュータを取り入れるなど、様々な工夫をしている。</p>
--	--	--

問1 下線部①について、下の(1)・(2)の問いに答えなさい。

(1) このような貿易を何というか、答えなさい。


(2) 下のグラフは、わが国の輸出品の割合の変化を示しています。グラフ中の()にあてはまる語句を、下のア～エから1つ選び、記号で答えなさい。

ア. 石油製品 イ. 鉄鋼 ウ. 機械類 エ. セメント



日本関税協会 『外国貿易概況』 (1997年)

問2 下線部②について、右のグラフはわが国の港・空港別貿易額を示しています。グラフ中の()にあてはまる港、または空港を答えなさい。



日本関税協会 『外国貿易概況』 (1997年)

問3 下線部③について、右の表はわが国の貨物の機関別輸送量の割合を示しています。表中の1位～4位の組合わせとして正しいものを、ア～エから1つ選んで、記号で答えなさい。

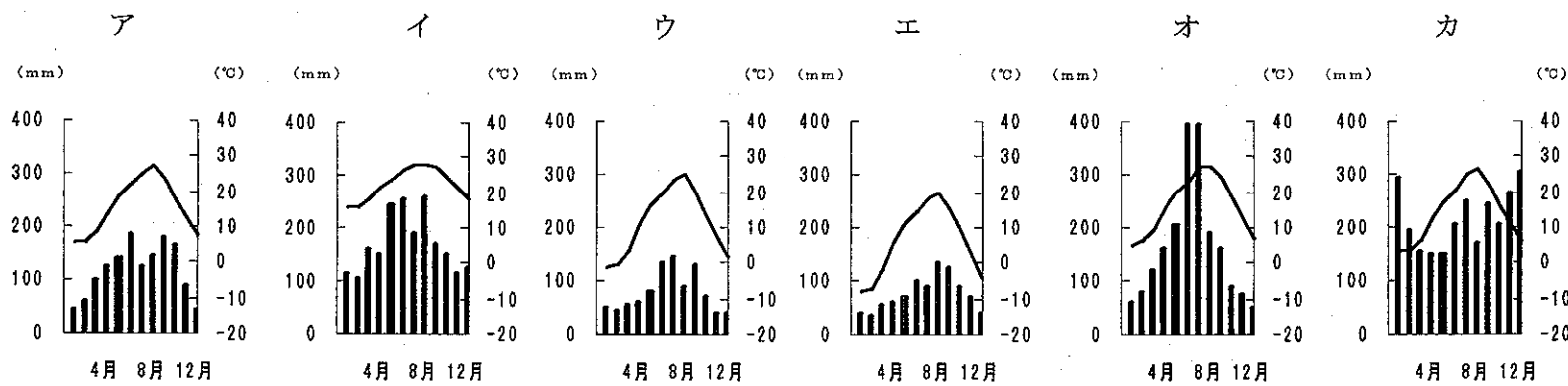
	ア	イ	ウ	エ
1位	自動車	自動車	自動車	自動車
2位	船	鉄道	鉄道	船
3位	飛行機	飛行機	船	鉄道
4位	鉄道	船	飛行機	飛行機

国内貨物輸送量 (百万トン)

	1970年	1980年	1990年	1996年
1位	4626.0	5318.0	6114.0	6177.0
2位	352.0	500.0	575.0	547.0
3位	256.0	163.0	87.0	74.0
4位	0.1	0.3	0.9	1.0
合計	5234.1	5981.3	6776.9	6799.0

運輸省『運輸白書』(1998年)

問4 下線部④について、下のア～カのグラフは、那覇・熊本・金沢・長野・東京・帯広の気温と降水量を示しています。金沢と那覇のグラフをそれぞれ選んで、記号で答えなさい。



『理科年表2000年版』

問5 下線部⑤について、下の表は都道府県別農産物生産量（みかん・お茶・ぶどう・もも）の上位5位を示しています。表中の（ア）と（イ）の都道府県名を答えなさい。ただし、みかんとお茶の（ア）、ぶどうとももの（イ）は、それぞれ同じ都道府県が入ります。

みかん (トン)	
全国	1153000
愛媛	167400
和歌山	162000
(ア)	140600
熊本	96500
佐賀	79800

お茶 (トン)	
全国	91200
(ア)	41000
鹿児島	18300
三重	7630
宮崎	3120
奈良	3020

ぶどう (トン)	
全国	243900
(イ)	65500
長野	32800
山形	22700
岡山	14600
福岡	12000

もも (トン)	
全国	168700
(イ)	58500
福島	32400
長野	23300
和歌山	13000
山形	9450

FAO (国連食糧農業機関) 『生産年鑑』(1998年)

問6 下線部⑥について、このために最近のトラックは、どのような工夫をしているか答えなさい。

問7 下線部⑦について、冬にビニールハウスなどで暖房して早作りをすることを何というか答えなさい。また、農家が早作りをする理由を書きなさい。

問8 下線部⑧について、まちがっている説明を下のア～エから1つ選び、記号で答えなさい。

- ア. これらの店には、各地にチェーン店を出し、全国展開しているところもある。
- イ. これらの店の中で、ディスカウント店と呼ばれるところは、定価販売で消費者の信頼を得ている。
- ウ. これらの店は、車社会を意識し、郊外に広い駐車場を備えた店舗を出す傾向が強い。
- エ. これらの店が、郊外に店舗を出す理由の中には、土地代が安くすむということもある。

問9 下線部⑨について、下の文は、コンビニエンスストアで受ることのできるサービスの例です。文中の波線部（ア）～（エ）に、実際に受ることのできないサービスがあれば、その記号をすべて答えなさい。ただし、すべてのサービスを受けることができる場合は、解答欄に「○」を記入しなさい。

父は、近所のコンビニエンスストアに行き、(ア) 電話料金の支払いをした。来週から出張で東京に行くための(イ) 飛行機のチケットを予約し、事前に大きな荷物を(ウ) 宅配便で送る手続きもすませた。出張に必要なものを買って求め、最後に(エ) 予約していたCDを受け取った。

問10 下線部⑩について、バーコードを利用した商品管理方法があります。バーコードに関する下の説明で、まちがっているものをア～エから1つ選び、記号で答えなさい。

- ア. バーコードから、商品が作られた国を知ることができる。
- イ. バーコードから、商品が作られたメーカーを知ることができる。
- ウ. バーコードは、商品に必ずつけることが義務づけられている。
- エ. バーコードは、よく売れている商品の分析に利用することができる。

2

次の文A～Jの「私」にあてはまる人物名を答えなさい。また、文中の下線部分についての問いにも答えなさい。

A. ①3世紀ごろ、邪馬台国やまたいこくの女王であった「私」は、中国の歴史書の中で「まじないをする力があり、人々を従えていた」と紹介されています。

問1 下線部①について、この時代の人々の様子を伝えるものを、下のア～エから1つ選んで、記号で答えなさい。

ア. 青森県の三内丸山遺跡さんないまるやまいせき イ. 東京都の大森貝塚おおもりかいづか ウ. 大阪府の大山古墳だいせんこふん
エ. 佐賀県の吉野ヶ里遺跡よしのがりいせき

B. 「私」は、聖徳太子とともに政治改革をおこなったことで知られています。やがて私の一族は天皇をしのぐようになったため、私の息子と孫は、②645年に中大兄皇子なかのおおえのおうじと中臣鎌足なかとみのかまたりによってほろぼされました。

問2 下線部②について、この年に制定された年号を、下のア～エから1つ選んで、記号で答えなさい。

ア. 大宝たいほう イ. 大化たいか ウ. 天平てんびょう エ. 飛鳥あすか

C. 奈良時代の天皇である「私」は、仏教の力で国をまもるために、都には大仏を、地方には国ごとに国分寺をつくることを命じたことで知られています。また、「私」の時代には、中国から③鑑真かんじんが来日し、仏教の教えを広めました。

問3 下線部③について、この人物が開いた寺院を、下のア～エから1つ選んで、記号で答えなさい。

ア. 唐招提寺とうしやうだいじ イ. 東大寺とうだいじ ウ. 興福寺こうふくじ エ. 薬師寺やくしじ

D. 藤原道長の娘彰子しょうしに仕えた「私」は、当時の貴族の暮らしやこまやかな感情を④ひらがなで描いた『源氏物語』を書いたことで有名です。

問4 下線部④について、この文字で書かれた作品を、下のア～エから1つ選んで、記号で答えなさい。

ア. 日本書紀にほんしょき イ. 竹取物語たけとりものがたり ウ. 万葉集まんよしゅう エ. 古事記こじき

E. 鎌倉幕府の執権をつとめた「私」の時代には、元軍げんぐんが2度にわたって九州北部に攻めてきました。九州の御家人のひとり、その時の様子を⑤『蒙古襲来絵詞』もうこしやうらいえことばという絵巻物にしてのこしました。

問5 下線部⑤について、これを描かせた人物を、下のア～エから1つ選んで、記号で答えなさい。

ア. 楠木正成くすのきまさしげ イ. 新田義貞にったよしただ ウ. 竹崎季長たけざきすえなが エ. 足利尊氏あしかがたかうじ

F. 室町時代に活躍した「私」は、中国から伝えられた水墨画すいぼくがを、日本的な山水画さんすいがとして完成させたことで知られています。また、「私」の生きた時代には、⑥京都を戦場にして11年間も続いた大きな戦乱が occurred。

問6 下線部⑥について、この戦乱を何というか、下のア～エから1つ選んで、記号で答えなさい。

ア. 南北朝の動乱なんぼくちよう どうらん イ. 本能寺の変ほんのうじ へん ウ. 長篠の戦いながしの たたか エ. 応仁の乱おうにん らん

G. 江戸幕府の3代将軍である「私」は、参勤交代を制度化したことで知られています。また、⑦鎖国が完成したのも、「私」の時代のことです。

問7 下線部⑦について、その後も長崎で貿易することが認められた国を、下のア～エから1つ選んで、記号で答えなさい。

ア. オランダ・中国 イ. イギリス・中国 ウ. オランダ・朝鮮 エ. イギリス・朝鮮

H. 明治維新後、「私」を大使とする使節団が、進んだ社会の様子や政治の仕組みを勉強するために、アメリカやヨーロッパに派遣されました。その後、⑧この使節団に参加した人たちを中心に、明治政府はいろいろな改革をおこないました。

問8 下線部⑧について、これにあてはまる人物を、下のア～エから1つ選んで、記号で答えなさい。

ア. 板垣退助 イ. 西郷隆盛 ウ. 福沢諭吉 エ. 大久保利通

I. ⑨第1次世界大戦後、世界の平和を守ることを目的として国際連盟がつけられました。「私」はその機関の事務局次長として活躍しました。

問9 下線部⑨について、この戦争で使用された兵器としてまちがっているものを、下のア～エから1つ選んで、記号で答えなさい。

ア. 毒ガス イ. 原子爆弾 ウ. 戦車 エ. 潜水艦

J. 作家である「私」は、小説『雪国』などが海外でも高く評価され、日本人として初めて⑩ノーベル文学賞を受けました。

問10 下線部⑩について、その後この賞を受けた日本人作家を、下のア～エから1つ選んで、記号で答えなさい。

ア. 大江健三郎 イ. 夏目漱石 ウ. 井上靖 エ. 湯川秀樹

3

次のA～Eの文は、2000年のできごとをまとめたものです。各文の空欄(1)～(5)にあてはまる語句を、それぞれの語群から1つ選んで、記号で答えなさい。

A. 寝たきりや日常生活に手助けが必要になった高齢者を社会で支え合う(1)保険制度が、4月1日全国一斉に始まった。これは、原則65歳以上の高齢者を対象としたものであるが、この制度を支える保険料は、40歳以上の国民が負担する。

《語群》 ア. 健康 イ. 介護 ウ. 年金 エ. 医療

B. 7月21日から沖縄県で開催された先進国首脳会議(サミット)には、アメリカのクリントン大統領、イギリスのブレア首相、ロシアの(2)大統領などG8の首脳が集まった。この会議では、21世紀へ向けての国際問題などが話し合われ、「G8コミュニケ・沖縄2000」と呼ばれる文書が採択された。

《語群》 ア. ブーチン イ. シラク ウ. エリツィン エ. シュレーダー

C. 6月下旬以来噴火が続き、8月末に大規模噴火が起きた(3)では、9月2日に防災関係者を除く全島民に正式に避難指示が出され、島民の避難は4日午後に完了した。全島避難は1986年の伊豆大島噴火に続く、国内2番目の例である。

《語群》 ア. 新島 イ. 神津島 ウ. 八丈島 エ. 三宅島

D. 20世紀最後の夏季オリンピック・シドニー大会は、200の国・地域が参加して行われた。9月15日の開会式では、五輪史上初の^{だいかんみんこく}大韓民国と朝鮮民主主義人民共和国による南北の合同入場行進が行われ、「平和の祭典」が強く印象づけられた。閉会式では五輪旗が、近代五輪発祥の地である次回開催都市（4）に引き継がれた。

《語群》 ア. ローマ イ. アテネ ウ. パリ エ. ロンドン

E. ノルウェーのノーベル賞委員会は、10月3日に^{だいかんみんこく}大韓民国の（5）大統領にノーベル平和賞を授与すると発表した。朝鮮民主主義人民共和国との和平へ向けてのねばり強い努力や人権擁護と民主化推進の姿勢などが評価されたのである。

《語群》 ア. 金正日 イ. 江沢民 ウ. 金大中 エ. 金泳三

4

次の文は、「日本国憲法」前文の要約です。この文を読んで、下の問いに答えなさい。

日本国民は、正しい①選挙で選ばれた国民の代表者を通じて行動し、わたしたちとわたしたちの子孫のために、世界の国々と親しく交わり、国内に自由のめぐみをみなぎらせ、これから②二度と戦争の起こることのないようにしようと決意します。そして、③国の政治のあり方を決める力は、わたしたち国民にあることを宣言して、④この憲法をつくりました。

わたしたちは、世界がいつまでも、平和であることを願います。また、世界の人々の真実と正義を愛する心を信頼して、安全に暮らしていきたいと思えます。

わたしたちは、正しい⑤政治のやり方はどこの国にも通用するもので、これに従いながら自分の国を守り、対等につきあうことが大事だと信じます。

日本国民は、国家の名誉にかけ、全力をあげて、この憲法の高い理想を実現することをちかいます。

問1 下線部①について、これによって組織される国会は、2つの議院から成り立っています。この2つの議院を、それぞれ答えなさい。

問2 下線部②について、この決意は日本国憲法の第何条で定められていますか、答えなさい。

問3 下線部③について、この原則を何といいますか、答えなさい。

問4 下線部④について、日本国憲法は、国民に多くの権利を保障するとともに、国民が守らなければならない義務についても定めています。次のA・Bの文の空欄（1）～（5）にあてはまる語句を、それぞれ語群から選んで、記号で答えなさい。

A. 日本国憲法は、基本的人権を、「^{おかし}侵すことのできない（1）の権利として、現在および将来の国民に与えられる」として国民に保障し、「この憲法が国民に保障する（2）及び権利は、国民の^{つとめ}不断の努力によつて、これを保持しなければならない」と定めています。

B. 日本国憲法は、国民の義務として、「すべて国民は、法律の定めるところにより、その保護する子女に（3）を受けさせる義務を負ふ」、「すべて国民は、（4）の権利を有し、義務を負ふ」、「国民は、法律の定めるところにより、（5）の義務を負ふ」の3つを定めています。

《語群》 ア. 納税 イ. 自由 ウ. 社会 エ. 永久 オ. 勤労 カ. 個人
キ. 普通教育 ク. 平等

問5 下線部⑤について、国の政治は、国会・内閣・裁判所がそれぞれ独立して仕事をしています。これは、1つの機関に力が集中しないようにするためです。このしくみを何といいますか、答えなさい。

5

最近、新聞やテレビで「IT（情報技術）革命」の話題を多く目にします。「IT」の内容は、コンピューターや携帯電話などを使ったインターネットが中心となります。急速な通信技術の進歩とともに、わたしたちの生活は大きく変化してきています。多くの情報サービスを家庭にいて受けとることができるようになりました。

下の図を参考にして、自分がどのような情報のやりとりをしてみたいか、また、将来予想される新しい情報技術にはどのようなものが考えられるか、自分の意見を100字以内で述べなさい。なお、句読点も1字と数えます。

